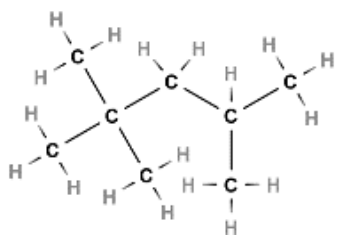


Nimeä yhdisteet 1-5. Piirrä yhdisteiden 6-10 rakennekaavat siten, että kaikki atomien väliset sidokset näkyvät (sidosviivakaava).

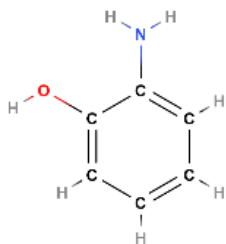
1.



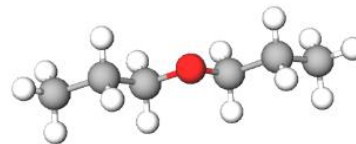
2.



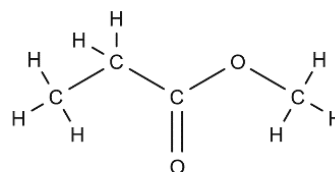
3.



4.



5.



6. 2-metyyli-pent-1-eeni

7. 1,3-dihydroksibentseeni

8. pentaanihappo

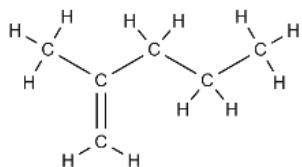
9. propyyliamidi

10. 1-aminopropaani (propyyliamiini)

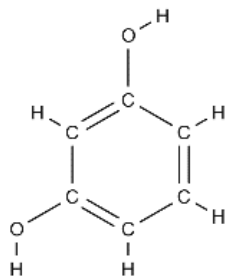
**Oikeat vastaukset:**

1. 2,2,4-trimetyylipentaani
2. 3-hekseeni / heks-3-eeni
3. 2-aminofenoli (2-aminohydroksibentseeni)
4. dipropyylieetteri
5. metyylipropanaatti (propanihapon metyyliesteri)

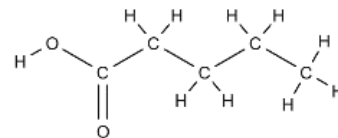
6.



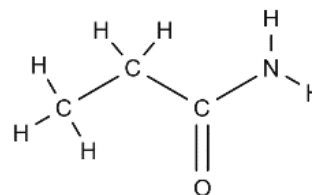
7.



8.



9.



10.

