

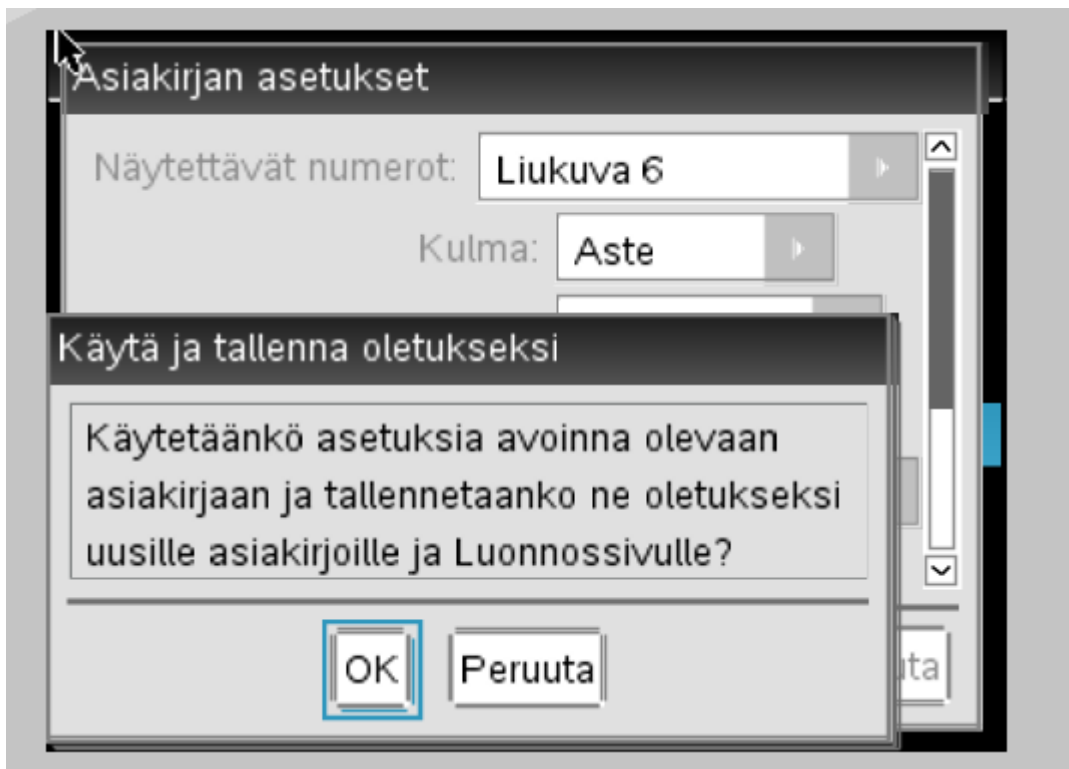
CAS ja geometria

Kulman yksikön asettaminen

Laskimessa on käytössä kolme erilaista kulman yksikköä, joista geometrian kurssilla käytetään astetta. Muiden yksikköjen käyttäminen johtaa väärin vastauksiin, joten esimerkiksi ennen koetehtävän laskemista, tarkista että käytössä on aste.



Kulman yksikkö muutetaan seuraavasti:


Mökki (on) – Asetukset – Asiakirjan asetukset – Kulma:aste – Oletusarvot – OK



Yksikkömuunnokset

Yksiköiden eteen kirjoitetaan aina alaviiva. Jos alaviivaa ei käytä, tulkitsee laskin yksikön muuttujaksi. Kun yksikkönä on esimerkiksi senttimetri, kirjoita laskimeen näppäimistöltä `_cm`. Alaviiva löytyy painamalla `ctrl`

ja . Samasta valikosta löytyy myös muunnosoperaattorina toimiva nuoli , jonka perään kirjoitetaan

yksikkö, johon muunnos tehdään. Erilaisia yksiköitä löytyy valitsemalla painike  ja sieltä kohta kolme. Voit kirjoittaa yksikön myös näppäimistöltä.

1200 · <i>_cm</i> ▶ <i>_m</i>	12 · <i>_m</i>
1200 · <i>_cm</i> ³ ▶ <i>_m</i> ³	0.0012 · <i>_m</i> ³
15 · <i>_ha</i> ▶ <i>_m</i> ²	150000 · <i>_m</i> ²
1500 · <i>_cm</i> ³ ▶ <i>_ml</i>	1500 · <i>_ml</i>
340 · <i>_in</i> ▶ <i>_mm</i>	8636 · <i>_mm</i>

Oheisessa kuvassa ensimmäisellä rivillä muunnettu 1200 senttimetriä metreiksi, toisella rivillä 1200 kuutiocenttimetriä kuutiometreiksi, kolmannella rivillä 15 hehtaaria neliömetreiksi, neljännellä rivillä 1500 kuutiocenttimetriä millilitroiksi ja viimeisellä rivillä 340 tuumaa millimetreiksi.

Yksikkömuunnostoiminto on hyödyllinen myös fysiikassa ja kemiassa.

Esimerkki 1

Kuinka monta palloa, jonka halkaisija on 4 cm, voidaan muotoilla kahden litran muoviluvahapakkauksesta?

Muuttuja määritellään tavallisen yhtäsuuruusmerkin = sijaan merkkiparilla :=, jonka saa näppäilemällä ctrl



ja

© Pallon säde on

$$r := \frac{4 \cdot \text{cm}}{2} \qquad 0.02 \cdot \text{m}$$

© Yhden pallon tilavuus on

$$v := \frac{4}{3} \cdot \pi \cdot r^3 \qquad 0.000034 \cdot \text{m}^3$$

$$\frac{2 \cdot 1}{v} \qquad 59.6831$$

© Palloja saadaan 59 kappaletta
 (Huom! pyöristetään alaspäin, koska 60 palloon materiaali ei aivan riitä)

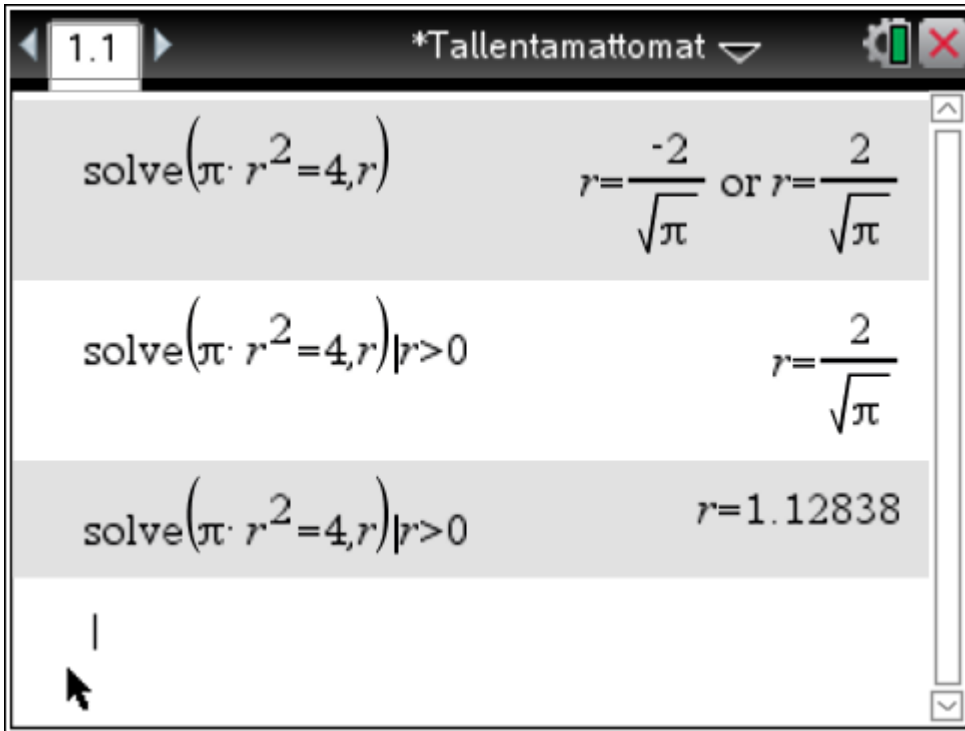
Huom! Laskin muuntaa omavaltaisesti ison V:n pieneksi v:ksi.

Yhtälön ratkaiseminen

Esimerkki 2

Mikä on sen ympyrän säde, jonka pinta-ala on a) 4 cm^2 b) A.

a)



Oheisessa kuvassa ensimmäisellä rivillä nähdään, että toisen asteen yhtälöllä on kaksi ratkaisua, joista negatiivinen ei geometrian tehtävässä ole luonnollisesti mahdollinen. Siksi geometrian kurssilla kannattaa käyttää solve-komennon perässä lisäehtoa, joka siivilöi ratkaisuista esille vain positiivisen. Lisäehto kirjoitetaan pystyviiva-merkin jälkeen. Pystyviiva-merkki | löytyy painamalla ctrl ja =. Toisella rivillä on käytetty lisäehtoa $r > 0$, joka tulostaa vain positiivisen ratkaisun. Likiarvon saa painamalla ctrl ja enter (kolmas rivi).

Paperille kirjaa seuraavaa:

Laskimeen

$$\text{solve}(\pi \cdot r^2 = 4, r) | r > 0$$

Vastaus: Säde on 1,1 cm.

b)

$\text{solve}(a=\pi \cdot r^2, r)$	$r = \frac{-\sqrt{a}}{\sqrt{\pi}}$ and $a \geq 0$ or $r = \frac{\sqrt{a}}{\sqrt{\pi}}$ and $a \geq 0$
$\text{solve}(a=\pi \cdot r^2, r) r > 0$	$r = \frac{-\sqrt{a}}{\sqrt{\pi}}$ and $a \geq 0$ and $\sqrt{a} < 0$ or $r = \frac{\sqrt{a}}{\sqrt{\pi}}$ and $a \geq 0$ and $\sqrt{a} > 0$
$\text{solve}(a=\pi \cdot r^2, r) r > 0$ and $a > 0$	$r = \frac{\sqrt{a}}{\sqrt{\pi}}$ and $a > 0$

Yhtälössä voi olla ratkaistavan muuttujan lisäksi myös muita "kirjaimia", kuten tässä tapauksessa on pinta-ala A. Oheisessa ruudunkaappauksessa toisella rivillä nähdään, että pelkkä lisäehto $r > 0$ ei riitä, vaan tuottaa sekavan vastauksen. Kannattaa käyttää kolmannen rivin tapaan ehtoa $r > 0$ and $a > 0$, onhan pinta-ala A positiivinen, joten lisäehto on järkevä ja oikea.

Huomautus! Olen kirjoittanut laskimeen ison A:n, mutta laskin on muuntanut sen omavaltaisesti pieneksi a:ksi.

Esimerkki 3

Kuinka kauas merelle voi nähdä rannalla seisova henkilö, jonka silmät ovat 170 cm korkeudella merenpinnasta? Maapallon säde on noin 6380 km. [k87 9]

Ratkaisu

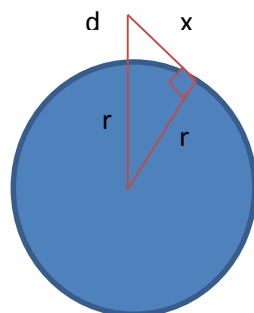
Lasketaan etäisyys linnuntietä, ei meren pintaa pitkin, joka olisi myös mahdollinen tulkinta tehtävän annosta.

Kuva tilanteesta on dokumentin lopussa.

© Määritellään muuttujat yksikköineen	
$d:=170 \cdot \text{cm}$	1.7 · _m
$r:=6380 \cdot \text{km}$	6.38E6 · _m
© Pythagoraan lauseen nojalla	
$\text{solve}(x^2+r^2=(r+d)^2, x)$	$x=-4657.47 \cdot \text{m}$ or $x=4657.47 \cdot \text{m}$
$4657.47 \cdot \text{m} \blacktriangleright \text{km}$	4.65747 · _km

Vastaus: Henkilö voi nähdä 4,7 km päähän.

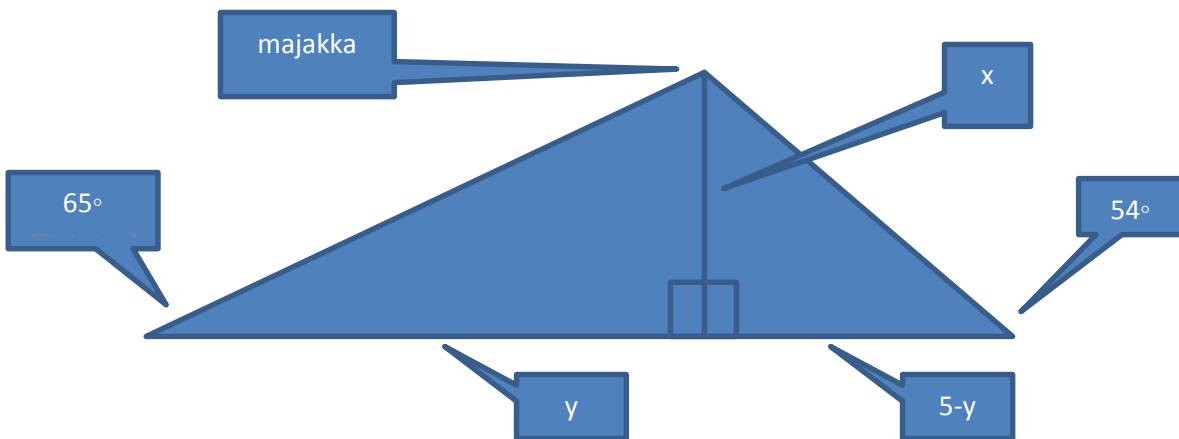
MALLIKUVA



Yhtälöparin ratkaiseminen

Esimerkki 4

Viisi kilometriä pitkän rantaa pitkin kulkevan suoran tieosuuden alkupisteessä kulkija näkee majakan etuviistossa 65° asteen kulmassa tiehen nähden. Tieosuuden loppupisteessä hän näkee saman majakan takaviistossa 54° asteen kulmassa tiehen nähden. Kuinka etäällä majakka on tiestä? Mikä piste on lähinnä majakkaa? [S 2007 6]



Merkitään majakan etäisyyttä tiestä x :llä ja lähimmän pisteen etäisyyttä tien alkupisteestä y :llä. Saamme helposti muodostettua yhtälöparin nojautumalla molempiin kuvaan piirrettyihin suorakulmisiin kolmioihin, mutta kyseisen yhtälöparin ratkaiseminen käsin on melko haastavaa, joten kannattaa tarvittaessa käyttää laskinta.

$$\text{solve} \left\{ \begin{array}{l} \tan(65) = \frac{x}{y} \\ \tan(54) = \frac{x}{5-y} \end{array} \right. , \{x, y\}$$

$$x = \frac{5 \cdot \cos(25) \cdot (\sqrt{5} + 1) \cdot \sqrt{2}}{2 \cdot \cos(25) \cdot \sqrt{5 - \sqrt{5}} + \sin(25) \cdot (\sqrt{5} + 1) \cdot \sqrt{2}} \text{ and } y = \frac{5 \cdot \sin(25) \cdot (\sqrt{5} + 1) \cdot \sqrt{2}}{2 \cdot \cos(25) \cdot \sqrt{5 - \sqrt{5}} + \sin(25) \cdot (\sqrt{5} + 1) \cdot \sqrt{2}}$$

$$\text{solve} \left\{ \begin{array}{l} \tan(65) = \frac{x}{y} \\ \tan(54) = \frac{x}{5-y} \end{array} \right. , \{x, y\}$$

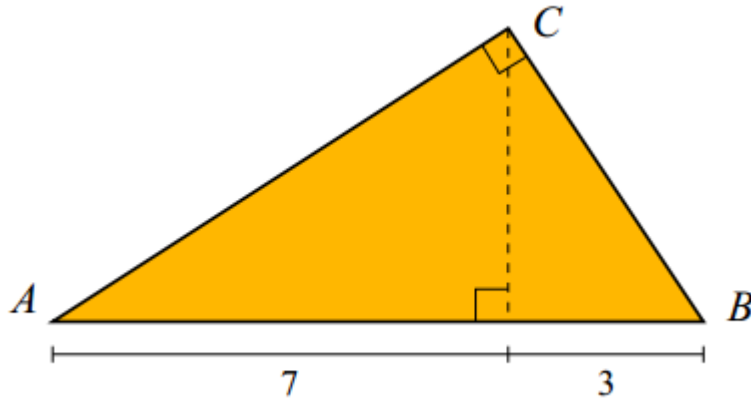
$x = 4.19164 \text{ and } y = 1.95459$

|

Vastaus: Majakka on 4,2 km tiestä. Alkupäästä 2,0 km etäisyydellä oleva piste on lähinnä majakkaa.

Esimerkki 5

Laske oheisen kuvan suorakulmaisen kolmion ABC pinta-alan tarkka arvo. [YO K 13 4]



Tehtävä voidaan ratkaista tyylikkästi ja laskennallisesti helpoiten yhdenmuotoisten kolmioiden avulla:

<http://matta.hut.fi/matta/yoteht/k13pratk.pdf>

Jos tehtävän ratkaisemiseen voidaan käyttää CAS-laskinta, niin tehtävä ratkaiseminen pinta-alojen ja Pythagoraksen lauseen avulla on suoraviivaista ja helppoa.

Olkoon pisteestä C kannalle AB piirretty korkeus h ja kateetin AC pituus a ja kateetin CB pituus b .

$$\text{solve} \left(\begin{cases} \frac{10 \cdot h}{2} = \frac{a \cdot b}{2} \\ a^2 + b^2 = 10^2 \\ h^2 + 7^2 = a^2 \end{cases}, \{a, b, h\} \mid a > 0 \text{ and } b > 0 \text{ and } h > 0 \right)$$

$$a = \sqrt{70} \text{ and } b = \sqrt{30} \text{ and } h = \sqrt{21}$$

© Kolmion ala on

$$\frac{10 \cdot \sqrt{21}}{2}$$

$$5 \cdot \sqrt{21}$$

|

