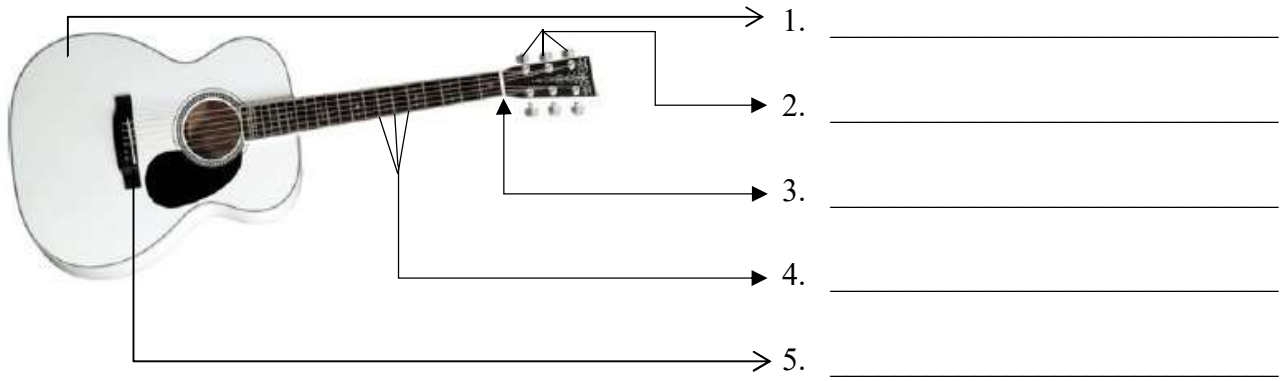


Nimeä kitaran osat viivoille.



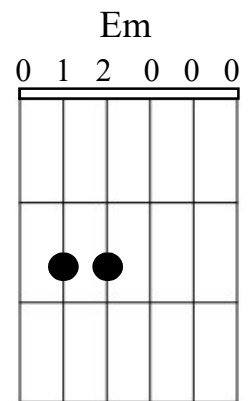
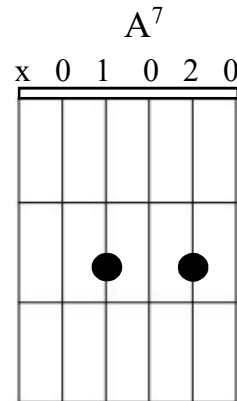
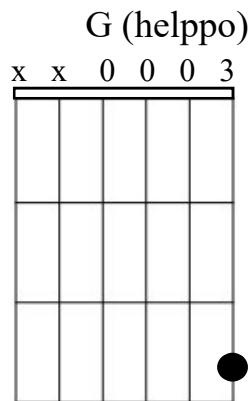
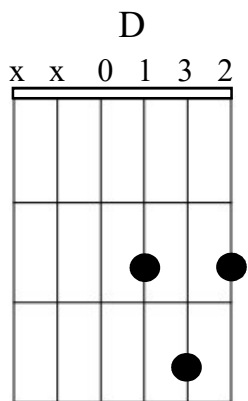
Mitkä ovat kitaran kielet? \_\_\_\_\_

Sointukaavio näyttää kitaran kaulalta sointuotteet, jos niitä ei muista ulkoa. Kaavio näyttää kitaran kaulan pystyasennossa. Valkoinen tuplaviiva ylhäällä on kitaran satula, poikittaiset viivat nauhoja ja kitaran kielet ovat pystyviivoja. Pisteet ovat sormen paikat kaulalla, numerot yläpuolella antavat ohjeita:

x = kieltä ei soiteta  
2 = keskisormi

0 = kieli soi vapaana  
3 = nimetön

1 = vasemman käden etusormi  
4 = pikkusormi



BASSON KIELET: \_\_\_\_ \_\_\_\_ \_\_\_\_ \_\_\_\_

Kun kitaralla yleensä säestetään soinnuilla (= monta säveltä ja siis useampi kieli soi yhtä aikaa), bassolla soitetaan useimmiten vain yhtä kieltä kerrallaan. Yleensä soitettava sävel on soinnun perussävel eli se kirjain, mistä sointu saa nimensä. Jos ensimmäisen kirjaimen jälkeen on ylennys-(#) tai alennusmerkki (b), ne pitää basistinkin ottaa huomioon, koska C ja C<sup>#</sup> ovat eri säveliä. Muut merkit soinnussa eivät koske basistia.

Huom! Jos sointumerkissä on /-merkki, basisti ei soitaakaan soinnun perussäveltä vaan sen, mikä /-merkin jälkeen ilmoitetaan.

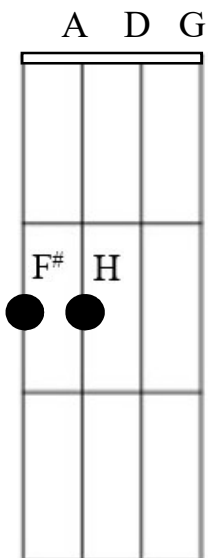
Esim.1: sointumerkki F → basisti soittaa F      Esim.2: sointumerkki Fm → basisti soittaa F  
Esim.3: sointumerkki F<sup>7</sup> → basisti soittaa F      Esim.4: sointumerkki F<sup>#</sup>m<sup>7</sup> → basisti soittaa F<sup>#</sup>  
Esim.5: sointumerkki F/C → basisti soittaa C

Tehtävä: Yläpuolella on sointumerkki. Merkitse alle, minkä sävelen basisti soittaa.

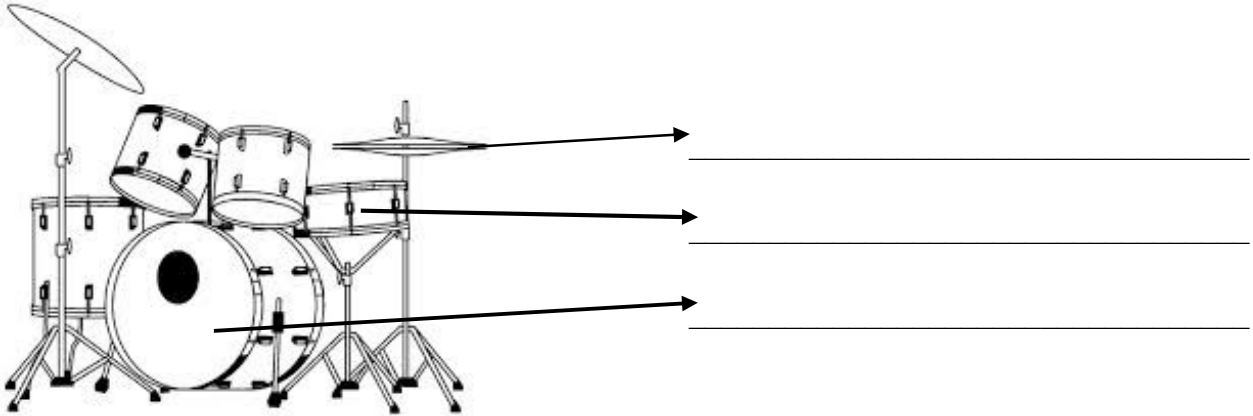
D      A<sup>7</sup>      Hm      F<sup>#</sup>m      G      D/A      A<sup>sus4</sup>      D

\_\_\_\_\_

Basson kaulan otekaavio esitetään myös pystysuunnassa, mutta yhteen kaavioon voidaan merkitä kaikki otteet, sillä niitä tarvitaan soittaessa vain yhtä kerrallaan.



Merkitse viivoille peruskompissa tarvittavien rumpusetin osien nimet.



Merkitse kuvaan pianon valkoiset koskettimet.



Merkitse kuvaan

a) F-duurin sävelet F, A ja C

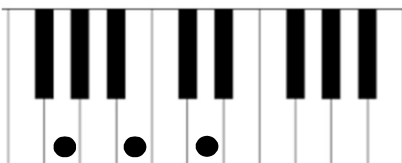


b) e-mollin sävelet E, G ja H



Kuvaan on merkitty kolmisoinnut. Mitä säveliä kolmisointuun kuuluu?

c) G-duuri \_\_\_\_\_



d) d-molli \_\_\_\_\_

