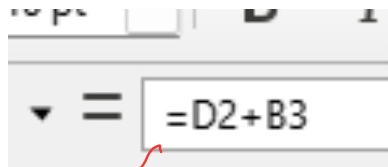
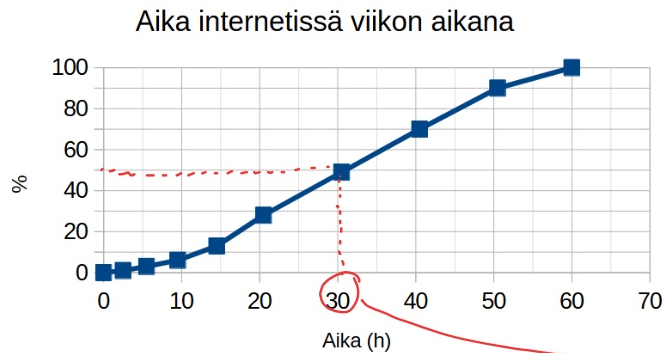


Kertymäkuurajessa



A	B	C	D	E	F	G	H	I	J
1	Aika (h)	f %	Todellinen yläraja Sf %						
2			0	0					
3	0-2	1	2,5	1					
4	3-5	2	5,5	3					
5	6-9	3	9,5	6					
6	10-14	7	14,5	13					
7	15-20	15	20,5	28					
8	21-30	21	30,5	49					
9	31-40	21	40,5	70					
10	41-50	20	50,5	90					
11	51-	10	60	100					
12									
13									
14									
15									
16									
17									



mediaani

lisää tyhjiä arvoja voit lisätä alimman arvon *

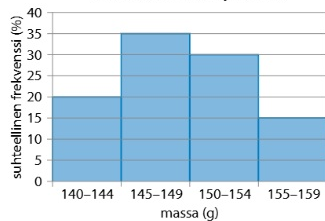
5.10



Histogrammi esittää pakkauskoneen tuottamien pakkausten massajakaamaa.

- Piirrä histogrammiin perusteella kertymäkuvaaja.
- Arvioi kertymäkuvaajan perusteella massa, jota kevyempiä on 75 % pakkauksista.
- Arvioi kertymäkuvaajan perusteella, kuinka monta prosenttia pakkauksista painaa yli 152 grammaa.

Pakkausten massajakaama



x y z =

