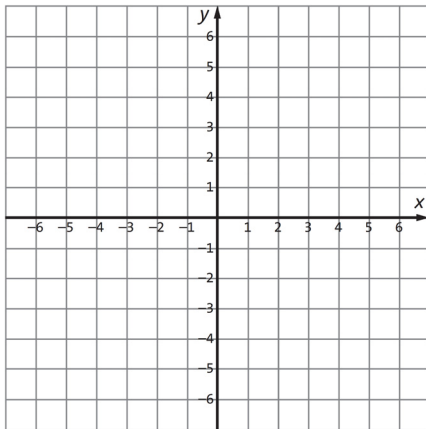
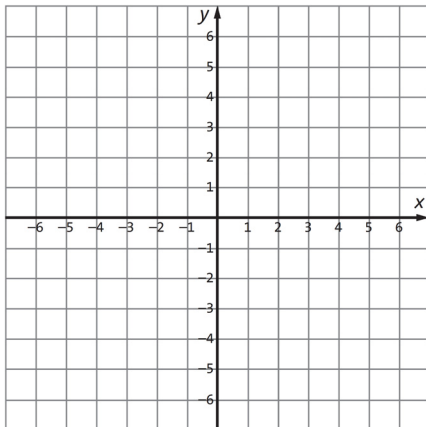


Tukitehtäviä lukuun 15

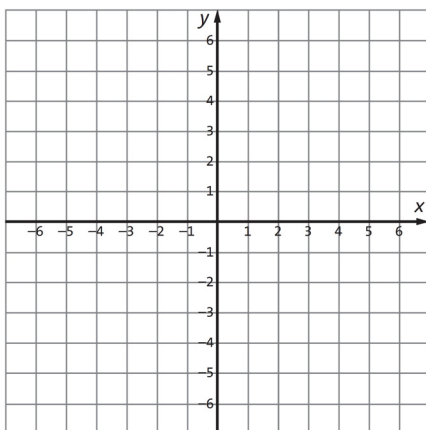
1. Merkitse koordinaatistoon pisteet $(-3, -1)$, $(-2, 0)$, $(-1, 1)$, $(0, 2)$ ja $(1, 3)$.



2. Piirrä samaan koordinaatistoon suorat $y = x + 4$ ja $y = -2x - 2$.

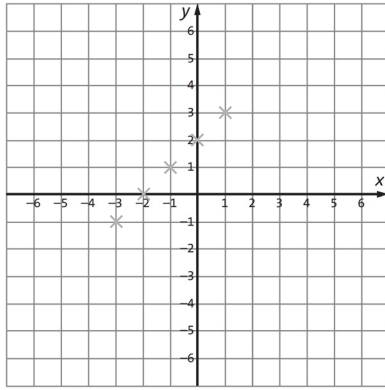


3. Piirrä samaan koordinaatistoon suorat $y = 2x$ ja $y = -x - 6$.

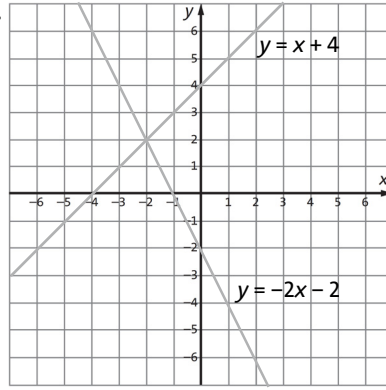




Vastaukset: 1.



2.



3.

