



Sopeutuminen aavikon olosuhteisiin

a. Miten aavikon eliöt ovat sopeutuneet aavikon olosuhteisiin?

b. Miten aavikon ihmiset ovat sopeutuneet aavikon olosuhteisiin?



Nimeä savannin puut.



a. _____




b. _____



c. _____

Piirroksat esittävät savannialueen maatalouden ongelmia. Kirjoita kuviin selitykset.



a. _____



b. _____



c. _____

Mitkä väittämät ovat oikein ja mitkä väärin?

- a. Sademetsässä on hyvin kuumaa ja kosteaa.
- b. Sademetsä on valoisa kasvupaikka.
- c. Sademetsän pohjalla ei kasva juuri mitään.
- d. Linnut elävät sademetsän ylimmässä kerroksessa.
- e. Sademetsissä ihmisten elämä on keskittynyt jokien varsille.

oikein	väärin

Korjaa edellisen tehtävän virheelliset väittämät.

Nimeä hyötykasvit



a. _____



b. _____



c. _____



d. _____



e. _____



f. _____



g. _____



h. _____

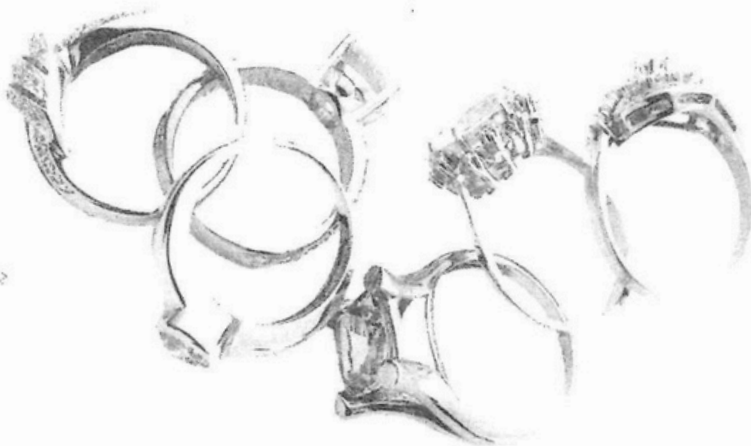
Mitkä väittämät ovat oikein ja mitkä väärin?

- a. Eurooppalaiset hallitsivat Afrikassa.
- b. Afrikkalaisten elintaso nousi.
- c. Eurooppalaiset määrittivät Afrikan valtioiden rajat.
- d. Afrikkalaiset heimot halusivat yhdistyä.
- e. Afrikkalaisille maksettiin hyvää palkkaa tehdystä työstä.
- f. Afrikkalaisia kuljetettiin orjiksi muihin maanosiin.

oikein	väärin

Korjaa edellisen tehtävän virheelliset väittämät.

Mitä luonnonvaroja Afrikassa on?



Suunnittele matkaa Afrikkaan. Tee lista siitä, mitä kaikkea haluaisit nähdä ja tehdä.

MATKALLE AFRIKKAAN



a) Listaa Euroopan maat sekä Afrikan maat seuraavasta tehtävästä.

b) **Kymmenen maailman rikkainta maata**

Qatar, Luxemburg, Singapore,
Brunei, Kuwait, Norja, Yhdistyneet
arabiemiirikunnat, San Marino, Sveitsi,
Yhdysvallat

c) **Kymmenen maailman köyhintä maata**

Guinea, Eritrea, Mosambik, Niger, Liberia,
Burundi, Malawi, Kongon demokraattinen
tasavalta, Somalia, Keski-Afrikan tasavalta

Yhdistä oikeisiin kasvillisuusalueisiin.

Suuri osa aluetta
on raivattu pelloiksi
jo aikoja sitten.

Aasian keskiosassa,
paljon lumihuippuisia vuoria.

Ilmasto on kuumaa
ja kosteaa.

Monsuunituulet tuovat
sateisen kesän.

Vain matalaa
kasvillisuutta, kuten
jäkälää ja heiniä.

Toiselta nimeltään taiga.

Käytetään laitumina.

Lähes kasvitonta aluetta.

tundra

havumetsä

monsuunimetsä

vuoristokasvillisuus

aro

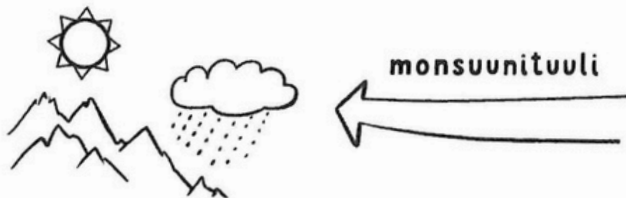
lehtimetsä

sademetsä

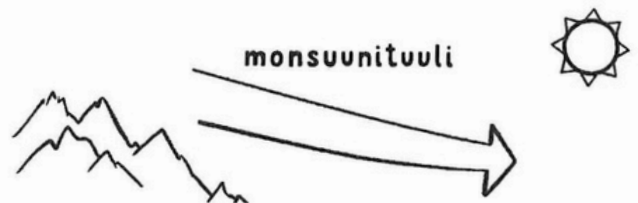
aavikko

Kerro vuoden ajoista kuvien avulla.

a. _____



b. _____



a. Kerro teen tuotannon vaiheista.

b. Millaisesta teestä itse pidät?

Etsi tietoja Aasian kolmesta jättiläisestä.

	Kiina	Intia	Japani
pääkaupunki			
asukasluku			
rahayksikkö			
elintaso			
lippu (piirrä)			
ongelmia aiheuttavia asioita			
näkemisen arvoista			
eläimet			
minua kiinnostavat asiat			

Testaa Aasia-tietosi kysymysten avulla. Laske lopuksi yhteen Aasia-pisteesi.

1. **Aasia on**
 - a. maailman suurin maanosa
 - b. maailman toiseksi suurin maanosa
 - c. maailman pienin maanosa.
2. **Aasiassa on**
 - a. kolme
 - b. viisi
 - c. kahdeksan kasvillisuusvyöhykettä.
3. **Himalaja sijaitsee**
 - a. Japanissa
 - b. Venäjällä
 - c. osittain Nepalin ja Tiibetin alueella.
4. **Aasian pohjoispuolella on**
 - a. Pohjoinen napameri
 - b. Pohjoinen jäämeri
 - c. Intian valtameri
5. **Aasian tärkein viljelykasvi on**
 - a. riisi
 - b. durra
 - c. kaura.
6. **Aasia väkirikkain valtio on**
 - a. Japani
 - b. Kiina
 - c. Intia.
7. **Pandoja on**
 - a. Japanissa
 - b. Intiassa
 - c. Kiinassa.
8. **Aasiassa juodaan paljon**
 - a. teetä
 - b. coca-colaa
 - c. maitoa.

1–3 oikein: Lue vielä luvut 36–37 ja kertaa oppimaasi.

4–6 oikein: Osaat jo aika hyvin. Tarkista vielä väärin menneet kohdat.

7–8 oikein: Hyvä, olet oppinut paljon Aasiasta.

