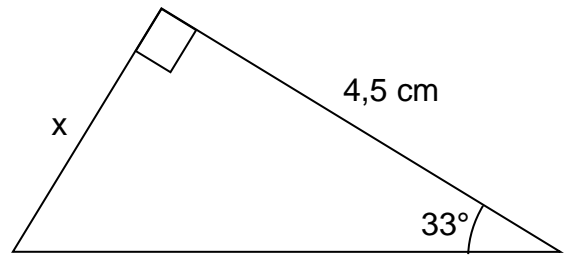
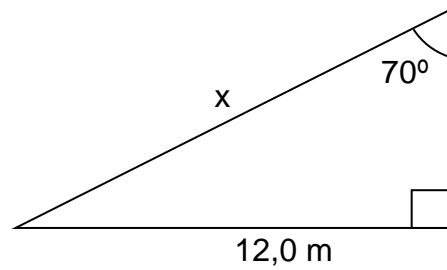


## MAB10 – Sivun pituuden ratkaiseminen

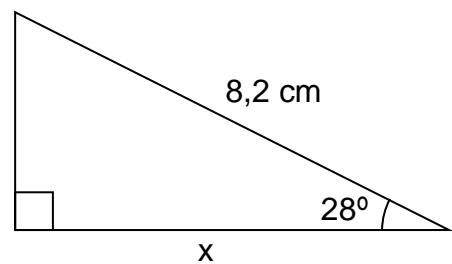
1. Laske sivun  $x$  pituus.



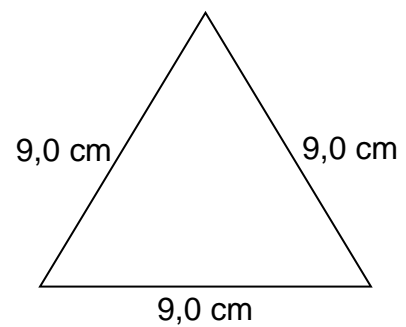
2. Laske sivun  $x$  pituus.



3. Laske sivun  $x$  pituus.



4. Laske tasasivuisen kolmion pinta-ala.

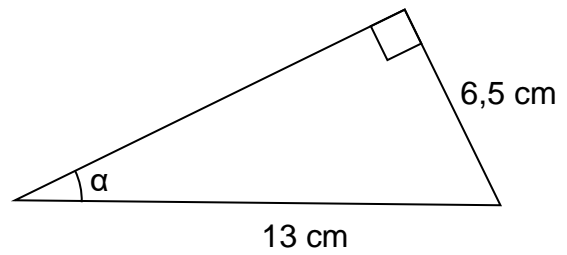


### Vastaukset:

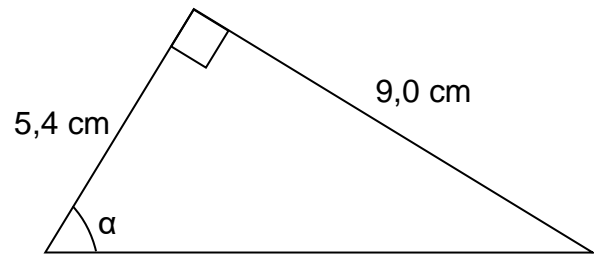
1.  $2,9 \text{ cm}$
2.  $12,8 \text{ m}$
3.  $7,2 \text{ cm}$
4.  $35 \text{ cm}^2$

## Kulman asteluvun ratkaiseminen.

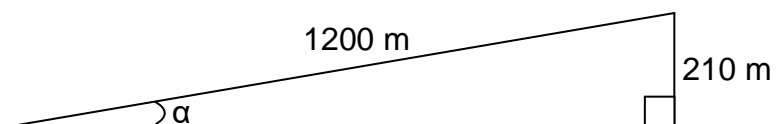
1. Laske kulman  $\alpha$  asteluku.



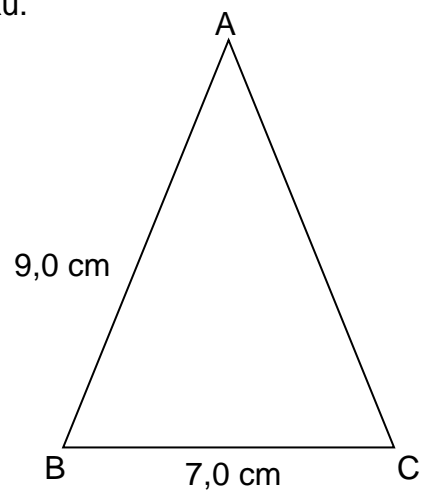
2. Laske kulman  $\alpha$  asteluku.



3. Laske mäen kaltevuuskulma  $\alpha$ .



4. Laske tasakylkisen kolmion ABC huippukulman asteluku.



### Vastaukset:

1.  $30^\circ$
2.  $59^\circ$
3.  $10^\circ$
4.  $46^\circ$