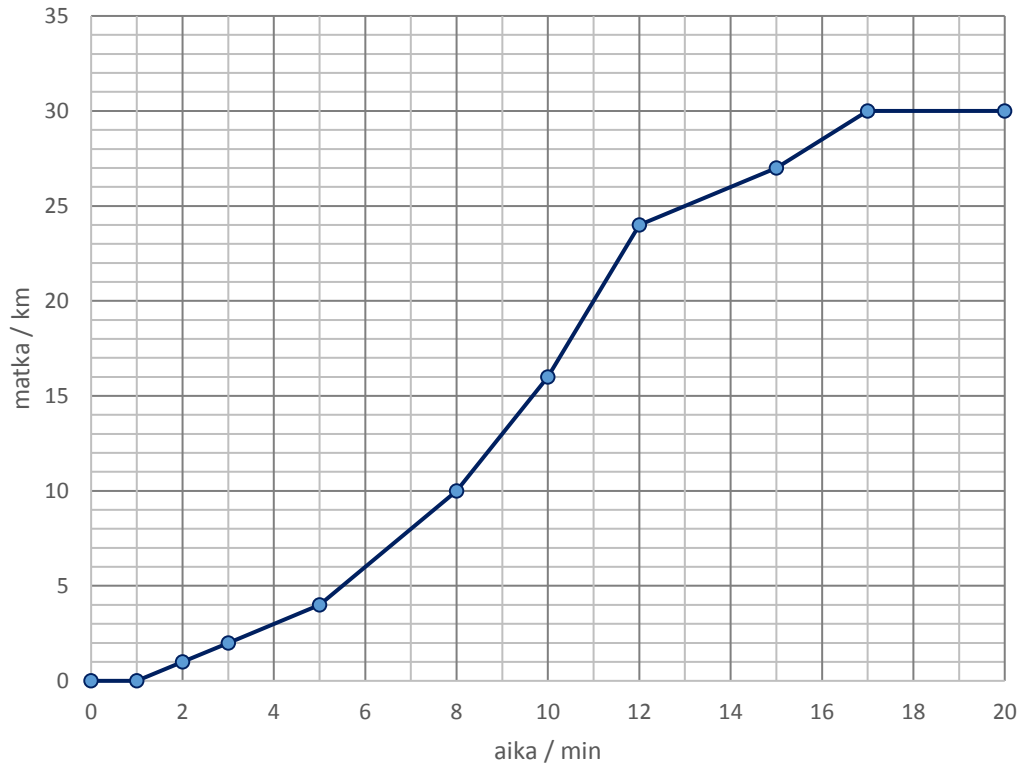


Automatka



e) Merkitse koordinaatistoon Joonan matka.

t / min	s / km	t / min	s / km
0	0	12	14
4	5	16	24
8	8	18	28
10	8	20	30

f) Milloin Joono on ajanut 20 km?

g) Kuinka pitkällä Joono on, kun on kulunut 14 minuuttia?

h) Kumpi on aiemmin perillä?

i) Milloin Joono on pysähtynyt?

j) Kumpi ajaa nopeammin?

Koordinaatistossa on Laurin automatka. Vaaka-akselilla (\rightarrow) on aika minuuteissa. Pystyakselilla (\uparrow) on matka kilometreinä.

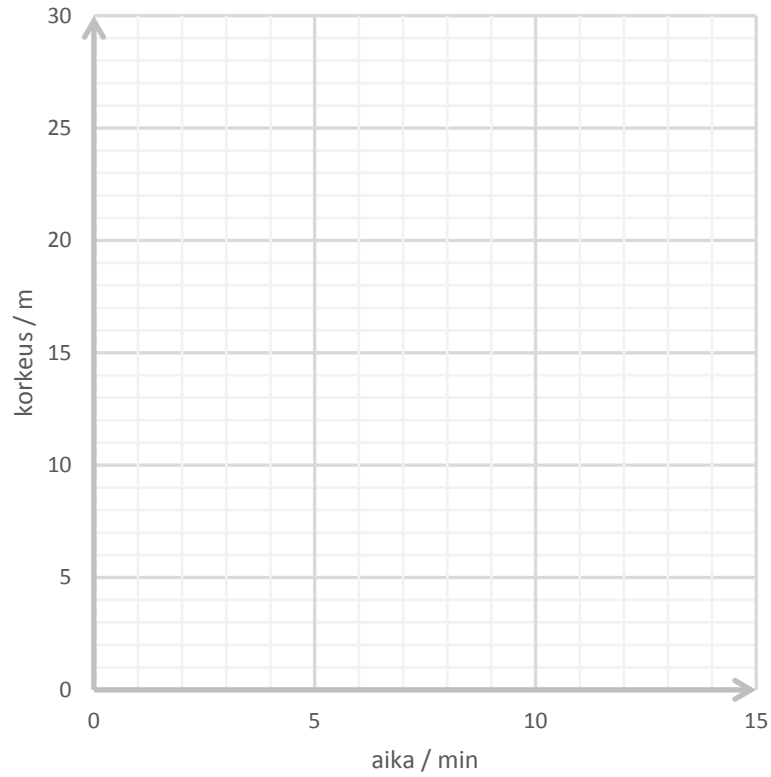
a) Milloin Lauri on kulkenut 30 km?

b) Milloin Lauri lähtee liikkeelle?

c) Milloin Lauri on ajanut 10 km?

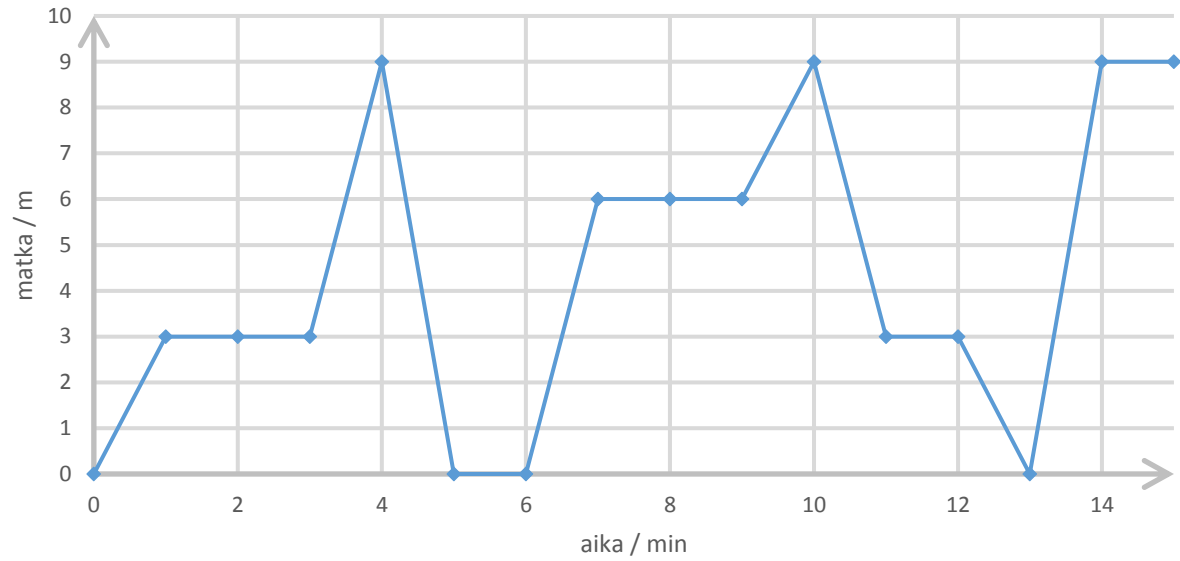
d) Kuinka pitkällä Lauri on, kun on kulunut 12 minuuttia?

Hissin korkeus



Aika / min	Korkeus / m

Hissin korkeus



Matka aamulla

