

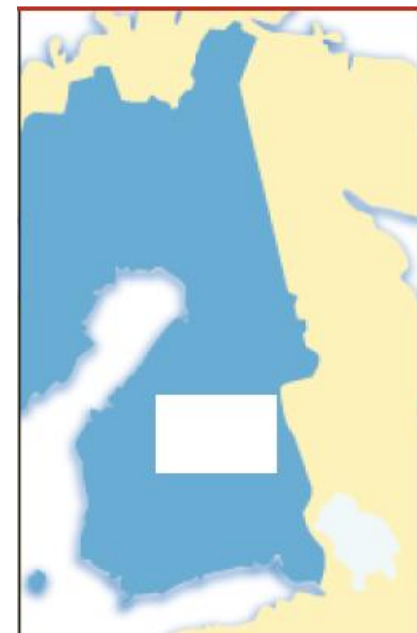
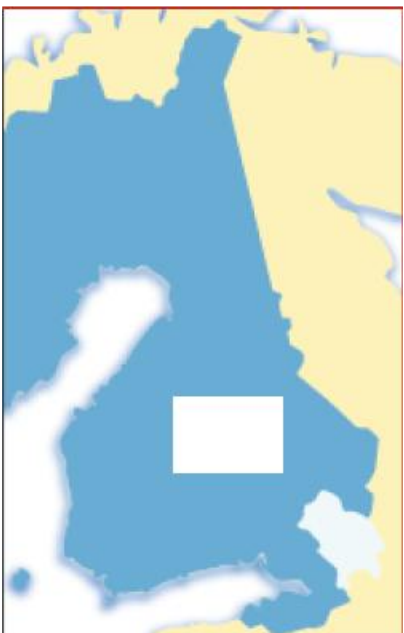
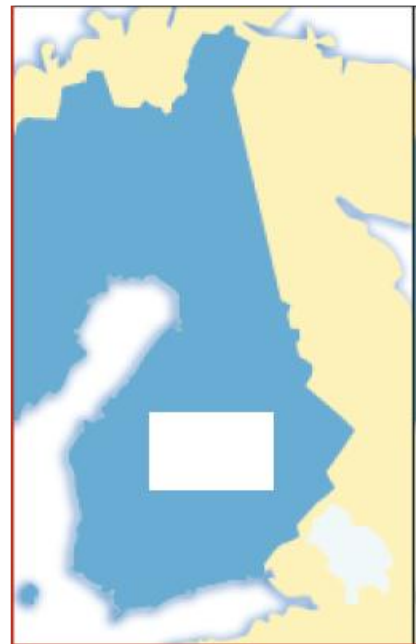
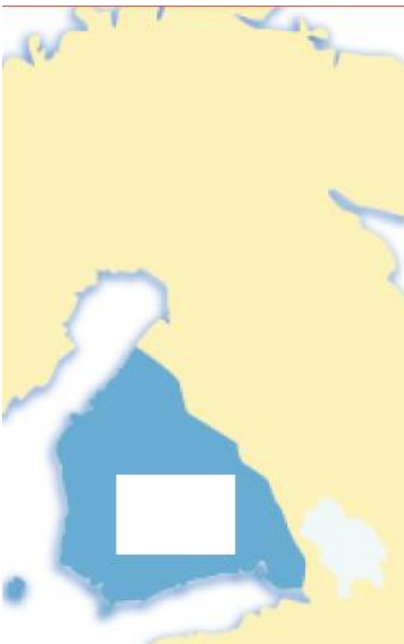
Kertaustehtävä Suomen (Ruotsin) itäraajasta 1323-1812.

Pähkinänsaaresta autonomiaan eli Suomen itäraajat Pähkinänsaaren rauhasta 1800-luvulle.

Yhdistele kartta ja rauhan nimi toisiinsa, lisää vuosiluku ”laatikkoon”. Kirjoita lyhyesti toisella puolella olevaan taulukkoon, mihin tilanteeseen rajan vetäminen liittyi (esim. sota, rauhansopimus), sekä vuosiluku.

Rauhat: **1. Turun rauha, 2. Pähkinänsaaren rauha, 3. Haminan rauha, 4. Stolbovan rauha, 5. Uudenkaupungin rauha, 6. Täyssinän rauha.**

Kartat:



Yhteenveto Suomen itärajoista Ruotsin vallan aikana (aikajärjestyksessä).

Vuosi	Rauhan nimi	Lyhyt seloste