

Kertaustehtävä Suomen (Ruotsin) itäraja 1323-1812.

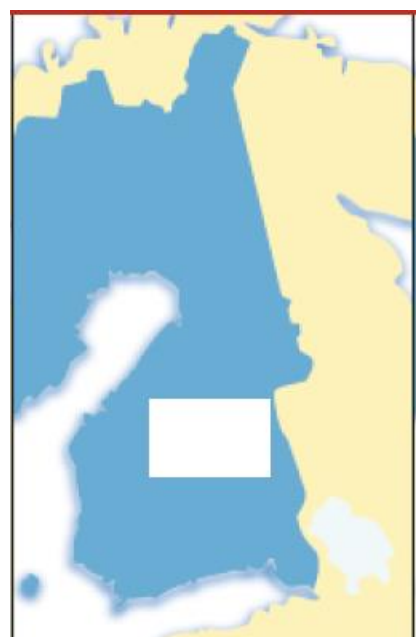
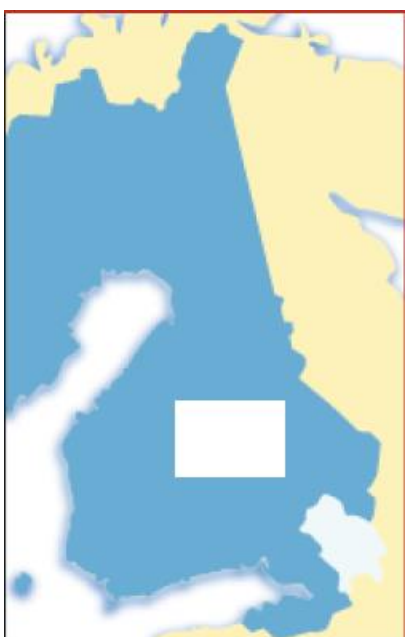
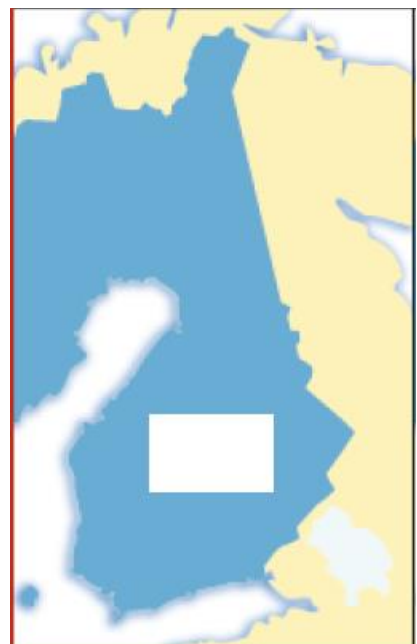
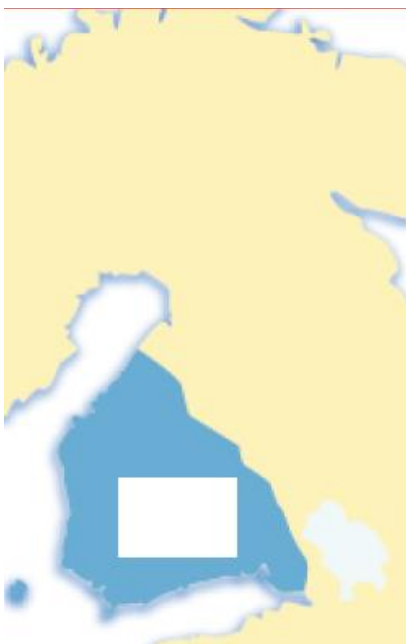
Pähkinäsaaresta autonomiaan eli Suomen itärajat Pähkinäsaaren rauhasta 1800-luvulle.

Yhdistele kartta ja rauhan nimi toisiinsa, lisää vuosiluku ”laatikkoon”. Kirjoita lyhyesti toisella puolella olevaan taulukkoon, mihin tilanteeseen rajan vetäminen liittyi (esim. sota, rauhansopimus), sekä vuosiluku.

Rauhat:

- **Turun rauha, Pähkinäsaaren rauha, Haminan rauha, Stolbovan rauha, Uudenkaupungin rauha, Täyssinän rauha.**

Kartat:



Yhteenveto Suomen itärajoista Ruotsin vallan aikana (aikajärjestyksessä).

Vuosi	Rauhan nimi	Lyhyt seloste