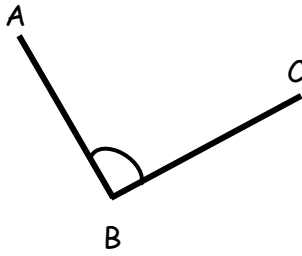
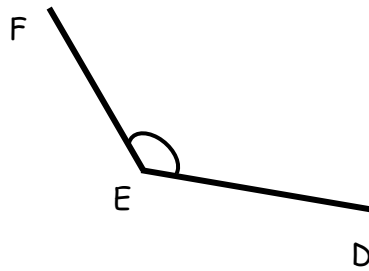


1. Nimeä kulmat kolmen pisteen avulla.

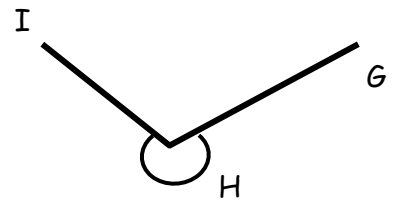
a)



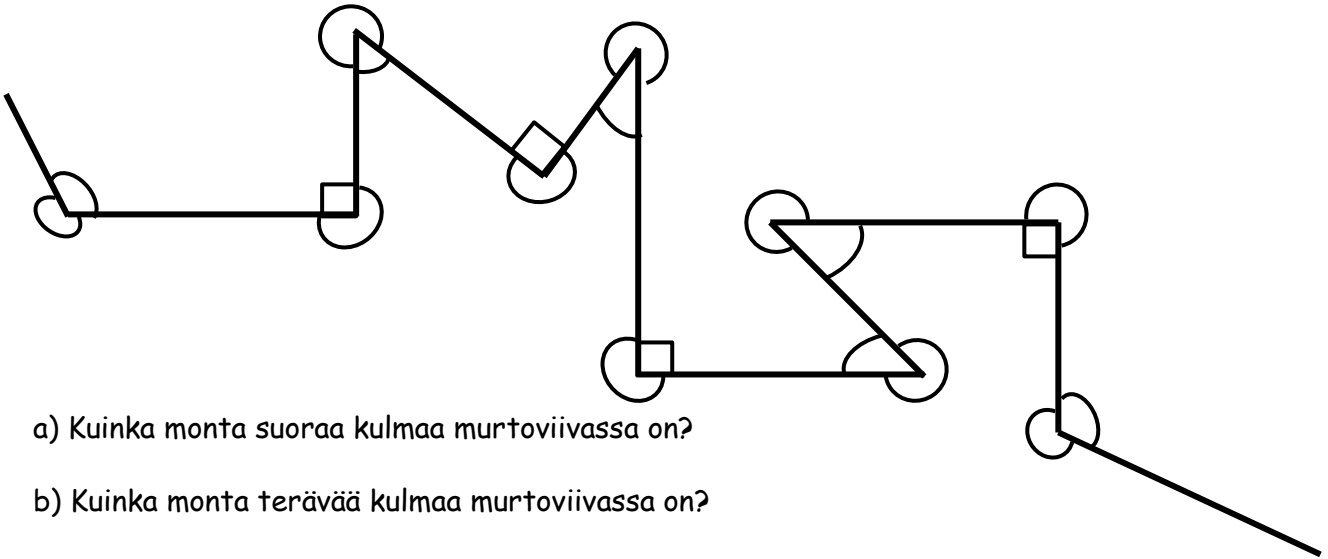
b)



c)



2.



a) Kuinka monta suoraa kulmaa murtoviivassa on?

b) Kuinka monta terävää kulmaa murtoviivassa on?

c) Kuinka monta tylppää kulmaa murtoviivassa on?

d) Kuinka monta koveraa kulmaa murtoviivassa on?

e) Kuinka monta kuperaa kulmaa murtoviivassa on?