

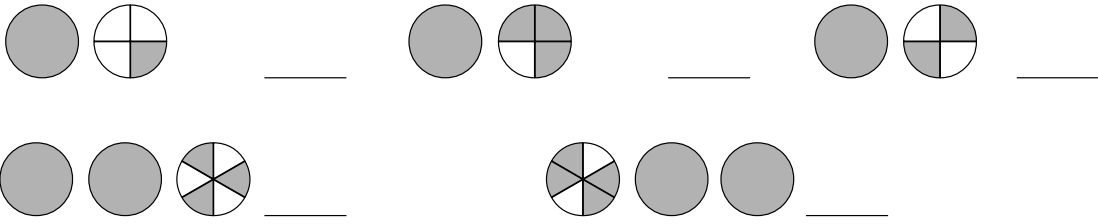


25

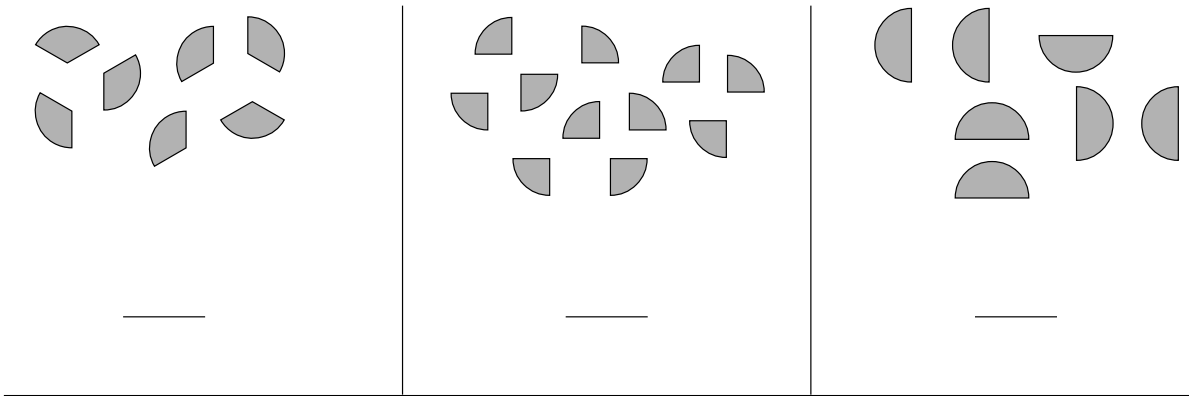
Sekaluku

Nimi: \_\_\_\_\_

1. Kirjoita kuvasta sekaluku.

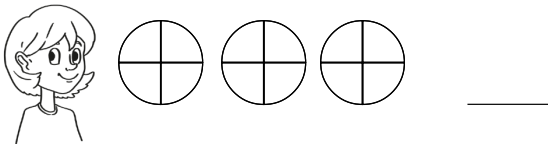


2. Kirjoita kuvasta sekaluku.




3. Kuinka paljon lapsilla on pitsaa? Väritä. Kirjoita sekalukuna.

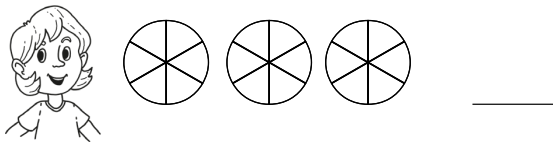
Minulla on yhdeksän palaa.



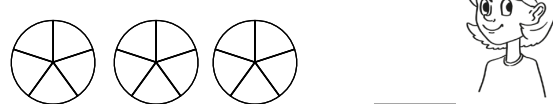
Minulla on 7 palaa.



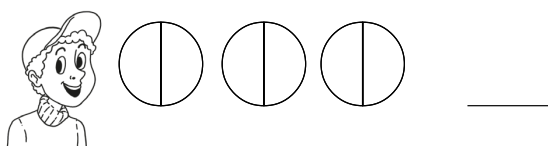
Minulla on kokonainen ja puolikas.



Minulla on 14 palaa.



Minulla on kaksi kokonaista ja yksi pala.



Minulla on viisi palaa.



Mikä sekaluvuista on suurin? \_\_\_\_\_

Mikä sekaluvuista on pienin? \_\_\_\_\_