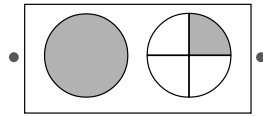


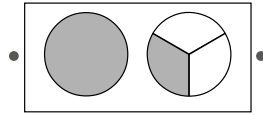
1. Yhdistä.

$1\frac{1}{3}$



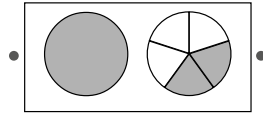
yksi kokonainen
yksi neljäsosa

$1\frac{1}{4}$



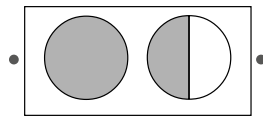
yksi kokonainen
yksi kolmasosa

$1\frac{4}{5}$



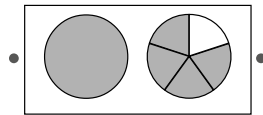
yksi kokonainen
yksi kahdesosa

$1\frac{1}{2}$



yksi kokonainen
kaksi viidesosaa

$1\frac{2}{5}$



yksi kokonainen
neljä viidesosaa

2. Kirjoita kuvasta sekaluku.

_____	_____	_____
_____	_____	_____
_____	_____	_____

3. Kuinka paljon piirakkaa on? Väritä. Kirjoita sekalukuna.



Piirakkaa on
5 palaa.

Piirakkaa on
8 palaa.



Piirakkaa on 2
kokonaista ja
kuudesosa.

