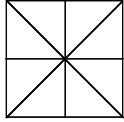




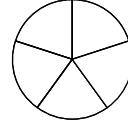
1. Väritä kuvioista neljä osaa. Merkitse murtolukuna.

Väritetty

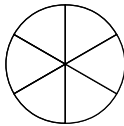


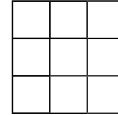
Värittämättä

Väritetty

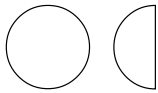


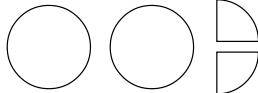
Värittämättä

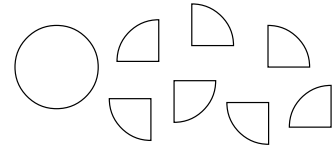




2. Kirjoita kuvasta sekaluku.







3. Jaa kokonainen neliö eri tavoin yhtä suuriin osiin ja väritä osat. Merkitse murtolukuna.



1 = _____



1 = _____



1 = _____

4. Mitä murtolukua tarkoitetaan? Kirjoita murtoluku.



Sen nimittäjä on 8.
Osoittaja on puolet nimittäjästä.



Se on viidesosa.
Se on suurempi kuin $\frac{3}{5}$.
Se on pienempi kuin kokonainen.



Se on kuudesosa.
Se on tasan puolet kokonaisesta.
