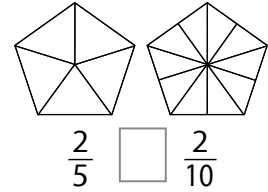
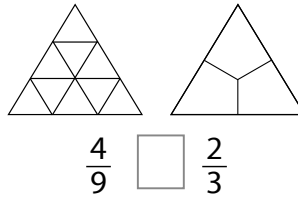
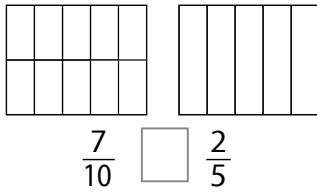
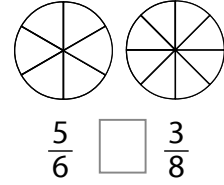
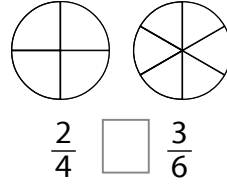
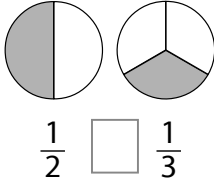


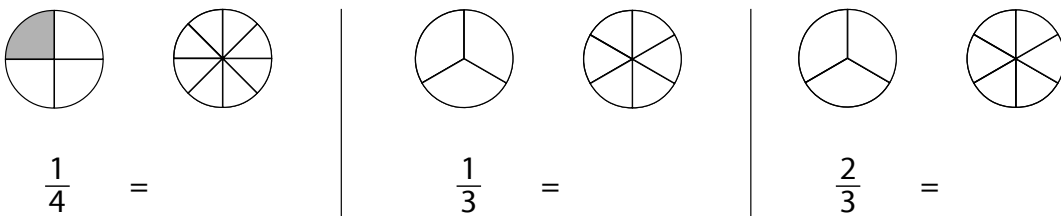
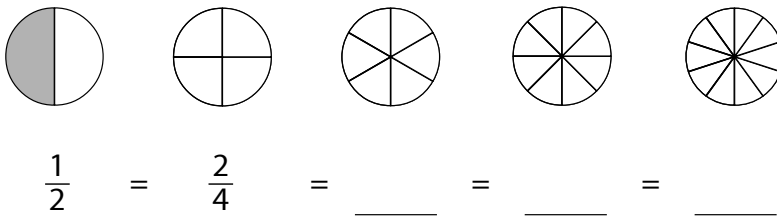


1. Värity murto-luvun ilmaisema osa. Vertaa murto-lukuja kuvien avulla.

Merkitse $>$, $<$ tai $=$.



2. Värity ja merkitse yhtä suuri murto-luku kuin rivin ensimmäinen.



3. Kokonaisesta pitsasta on jäljellä kolmasosa. Olli ja Jalo jakavat sen tasan.

Kuinka suuren osan kokonaisesta pitsasta kumpikin saa?

Piirrä kuva ja merkitse luvuilla.



Kumpikin saa _____.