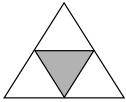

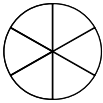
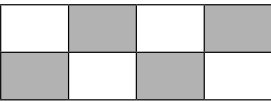
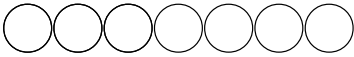
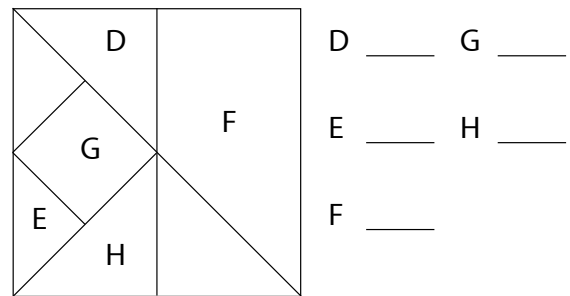
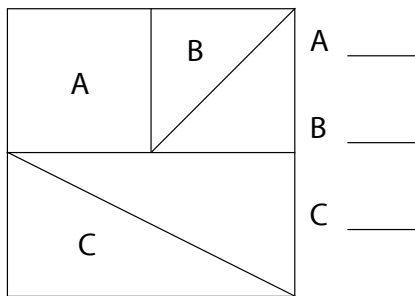




1. Väritä tai merkitse puuttuvat tiedot.

Kuva	Teksti	Luku
	yksi neljäsosa	
		$\frac{2}{5}$
	kolme kuudesosaa	
	neljä kahdeksasosaa	
		$\frac{3}{7}$

2. Kuinka suuri on kunkin osan suuruus koko kuviosta? Merkitse murtolukuna.



3. Sijoita numerot 1–6 ruutuihin niin, että ympyrässä oleva luku on ympärillä olevien lukujen summa.

