

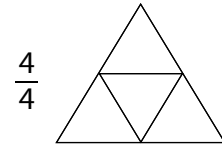
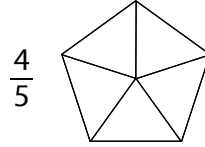
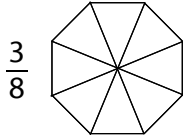
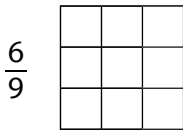
23

Murtoluvun käsite

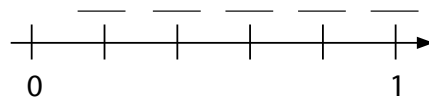
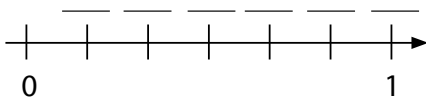
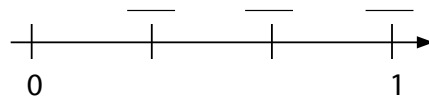
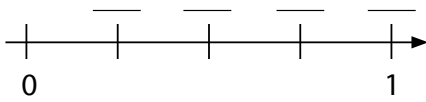
Nimi: _____



1. Väritä kuvioista murtoluvun ilmaisema osa.



2. Merkitse viivalle lukusuoralta puuttuvat murtoluvut.



3. Kirjoita murtoluku.

Kolme neljäsosaa _____ Yksi kolmasosa _____ Kaksi viidesosaa _____

Osoittaja on 5. Nimittäjä on 6. _____ Osoittaja on 4. Nimittäjä on 8. _____

4. Piirakka jaettiin 9 yhtä suureen osaan.

Milli, Heino ja Lennartti söivät piirakasta yhteensä 6 palaa.

Kirjoita murtolukuna, kuinka suuri osa piirakasta on

syöty _____ syömättä _____.

Jupiter söi jäljelle jääneistä piirakan paloista vielä kaksi.

Kirjoita murtolukuna, kuinka suuri osa piirakasta on tämän jälkeen

syöty _____ syömättä _____.

