


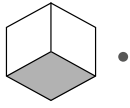
23

Murtoluvun käsite

Nimi: _____



1. Kuinka suuri osa kuviosta on väritetty? Miten murtoluku luetaan? Yhdistä.



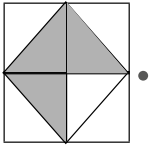
$\cdot \frac{1}{2} \cdot$

- yksi kolmasosa



$\cdot \frac{3}{4} \cdot$

- yksi kahdesosa



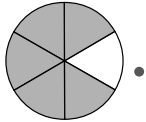
$\cdot \frac{1}{3} \cdot$

- viisi kuudesosaa



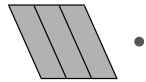
$\cdot \frac{5}{6} \cdot$

- kolme viidesosaa



$\cdot \frac{3}{3} \cdot$

- kolme neljäsosaa



$\cdot \frac{3}{5} \cdot$

- kolme kolmesosaa

2. Kirjoita kuviosta kaksi murtolukua.

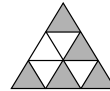
väritetty

$\frac{1}{4}$

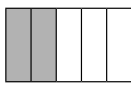


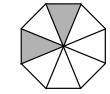
värittämättä

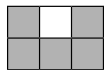
väritetty

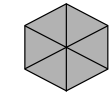


värittämättä









3. Merkitse viivoille lukusuoralta puuttuvat murtoluvut.

