

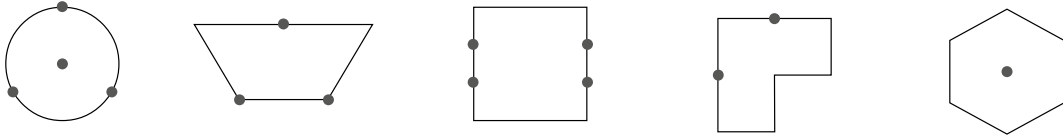
## 22

## Yhtä suuria osia

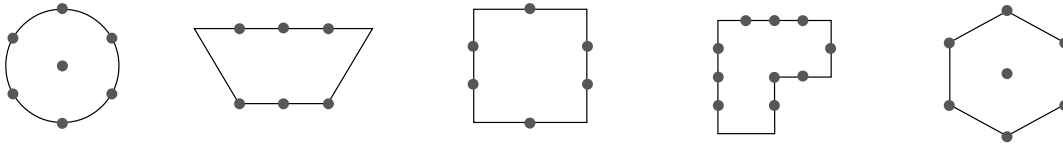
Nimi: \_\_\_\_\_



1. Jaa kuvio kolmeen yhtä suureen osaan. Väritä kuviosta yksi kolmasosa.



2. Jaa kuvio kuuteen yhtä suureen osaan. Väritä kuviosta yksi kuudesosa.



3. Täydennä osien määrä taulukkoon.


värillisiä osia				
osia yhteensä				

4. Kuinka moneen yhtä suureen osaan yksi kokonainen on jaettu?



On jaettu \_\_\_\_\_ osaan.

Mittaa ja jaa yksi kokonainen viiteen yhtä suureen osaan



On jaettu \_\_\_\_\_ osaan.

kahdeksaan yhtä suureen osaan.

