

21

Katsastus

Nimi: _____



1. Mittaa. Merkitse janojen pituudet kahdella eri tavalla.



___ cm ___ mm

= ___ mm



___ cm ___ mm

= ___ mm



___ cm ___ mm

= ___ mm

2. Muunna.

5 cm = ___ mm

3 cm 2 mm = ___ mm

38 mm = ___ cm ___ mm

5 km = _____ m

4 km 150 m = _____ m

6 780 m = ___ km ___ m

2 cm = ___ mm

1 cm 8 mm = ___ mm

85 mm = ___ cm ___ mm

3 km = _____ m

6 km 700 m = _____ m

4 800 m = ___ km ___ m

3. Muunna.

2 450 g = ___ kg ___ g

6 kg 570 g = _____ g

23 dl = ___ l ___ dl

5 l 4 dl = ___ dl

3 105 g = ___ kg ___ g

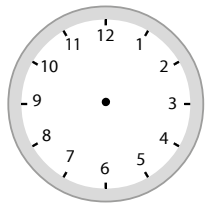
7 kg 300 g = _____ g

48 dl = ___ l ___ dl

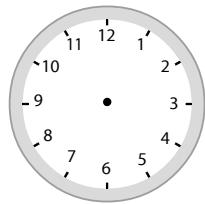
2 l 9 dl = ___ dl

4. Piirrä kelloihin viisarit ja kirjoita kellonaika pistemerkintänä.

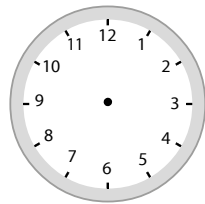
10 vaille kaksi
keskipäivän jälkeen



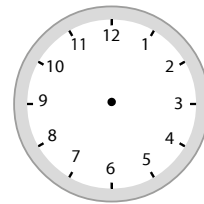
25 yli seitsemän
ennen keskipäivää



20 vaille yhdeksän
ennen keskipäivää



15 yli yksitoista
keskipäivän jälkeen

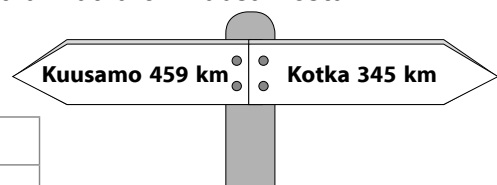


5. Laske allekkain.

Mummolaan on matkaa 184 km.
Kuinka pitkä on edestakainen matka?

V: _____ km

Kuinka pitkä matka on Kuusamosta
Kotkaan?



V: _____ km