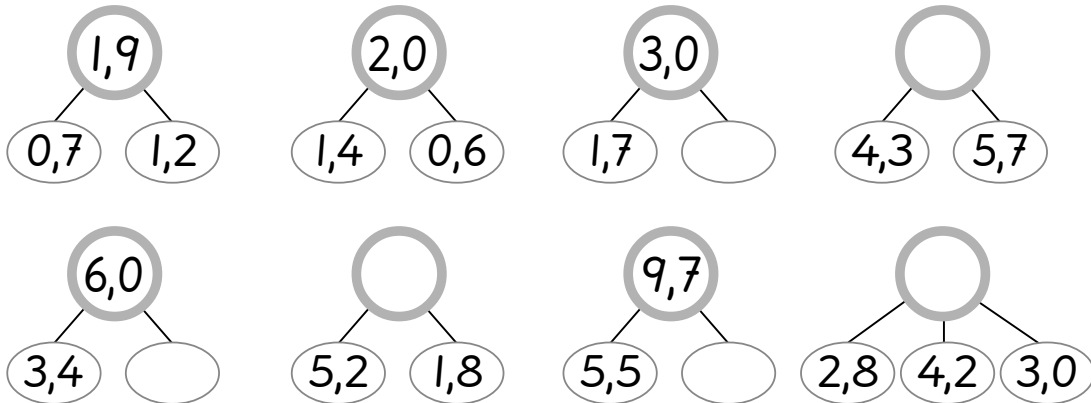


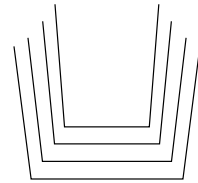


1. Täydennä puuttuvat luvut.



2. Kaapissa on neljä kulhoa, jotka ovat sisäkkäin.
Pienimpään kulhoon mahtuu 1,4 litraa ja suurimpaan 3,2 litraa.
Kulhojen koko pienenee aina samalla määrällä.
Kuinka suurista ovat kaksi keskimmäistä kulhoa?

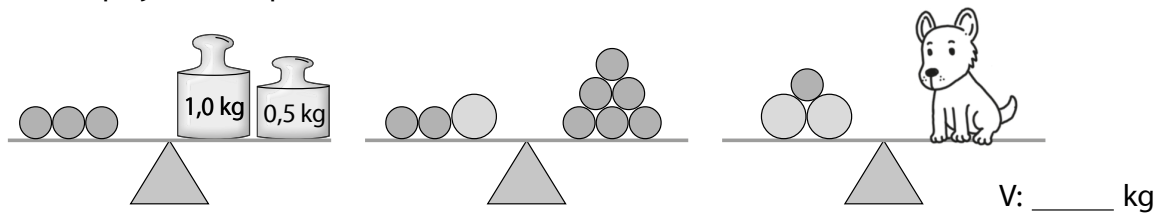
_____ l ja _____ l



3. Sampo kävelee yhden kilometrin 20 minuutissa ja Veeti pyöriilee saman matkan 6 minuutissa. Molempien koulumatka on 1,5 km.
Kuinka kauan kestää

Sampon koulumatka _____ Veetin koulumatka? _____

4. Kuinka paljon koira painaa?



5. Minkä kahden punnuksen paikkaa keskenään vaihtamalla saadaan vaaka tasapainoon?

V: _____ ja _____

