

36

Vähennyslaskua

Nimi: \_\_\_\_\_

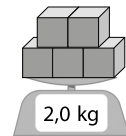


1. Kolmen luvun summa on 1,5 kaikilla pysty-, vaaka- ja vinoriveillä. Täydennä.

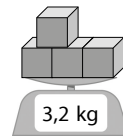
0,8		
0,3		0,7
		0,2

0,2	0,9	
	0,5	
0,6		

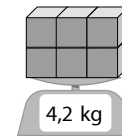
2. Vaa'asta otetaan pois kaksi samanlaista palikkaa. Kuinka paljon vaaka silloin näyttää?



V: \_\_\_\_\_ kg



V: \_\_\_\_\_ kg



V: \_\_\_\_\_ kg

3. Viisi sinistä punnusta painaa yhtä paljon kuin kolme punaista punnusta.  
Kuinka paljon painaa yksi punainen punnus, kun sininen punnus painaa 0,3 kg?

\_\_\_\_\_

4. Täysi marja-astia painoi 4,4 kg. Kun astia oli puolillaan, se painoi 2,4 kg.  
Kuinka paljon painaa tyhjä astia?

\_\_\_\_\_

5. Täydennä puuttuvat desimaaliluvut.

$$1,5 - 1\frac{2}{10} - 0,9 - \square$$

$$7,2 - 6,9 - 6\frac{6}{10} - \square$$

$$4,5 - 5\frac{6}{10} - 6,7 - \square$$

$$9\frac{7}{10} - 12,0 - 14\frac{3}{10} - \square$$