

36

Vähennyslaskua

Nimi: _____



1. Päättele vastaus kuvan avulla.



$0,4 - 0,1 = \underline{\quad}$



$0,5 - 0,3 = \underline{\quad}$



$0,7 - 0,2 = \underline{\quad}$



$0,9 - 0,3 = \underline{\quad}$

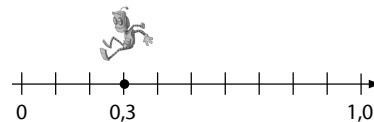


$1,0 - 0,6 = \underline{\quad}$

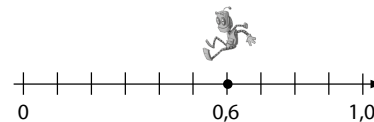


$0,8 - 0,7 = \underline{\quad}$

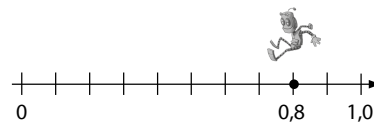
2. Mihin Milli loikkaa lukusuoralla? Piirrä nuoli loikasta ja kirjoita vastaus.



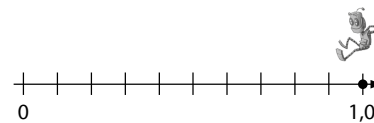
$0,3 - 0,2 = \underline{\quad}$



$0,6 - 0,3 = \underline{\quad}$



$0,8 - 0,5 = \underline{\quad}$



$1,0 - 0,7 = \underline{\quad}$

3. Lasko. Merkitse kirjain vastauksen alle. Saat selville, mikä myös voi olla lemmikkinä.

$0,7 - 0,3 = \underline{\quad}$ A

$0,9 - 0,2 = \underline{\quad}$ O

$1,3 - 0,3 = \underline{\quad}$ T

$1,0 - 0,8 = \underline{\quad}$ A

$1,9 - 0,2 = \underline{\quad}$ O

$1,4 - 0,2 = \underline{\quad}$ I

$1,5 - 1,0 = \underline{\quad}$ K

$0,6 - 0,5 = \underline{\quad}$ M

$1,8 - 0,4 = \underline{\quad}$ L

0,1 0,2 0,4 0,5 0,7 1,0 1,2 1,4 1,7

