

## 32

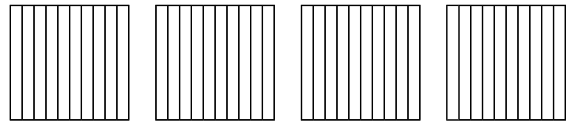
## Desimaaliluvun käsite

Nimi: \_\_\_\_\_

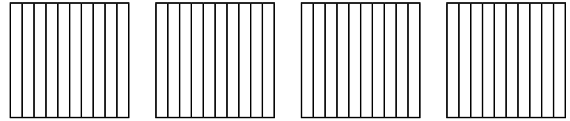


1. Kirjoita desimaalilukuna. Väritä.

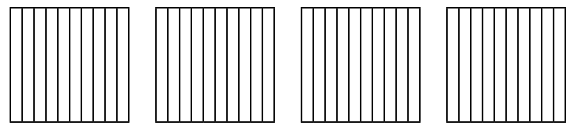
kaksi kokonaista  
seitsemän kymmenesosaa \_\_\_\_\_



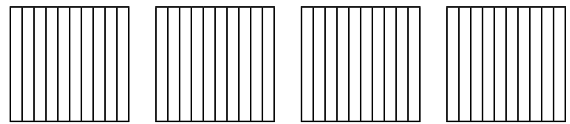
kolme kokonaista  
kaksi kymmenesosaa \_\_\_\_\_



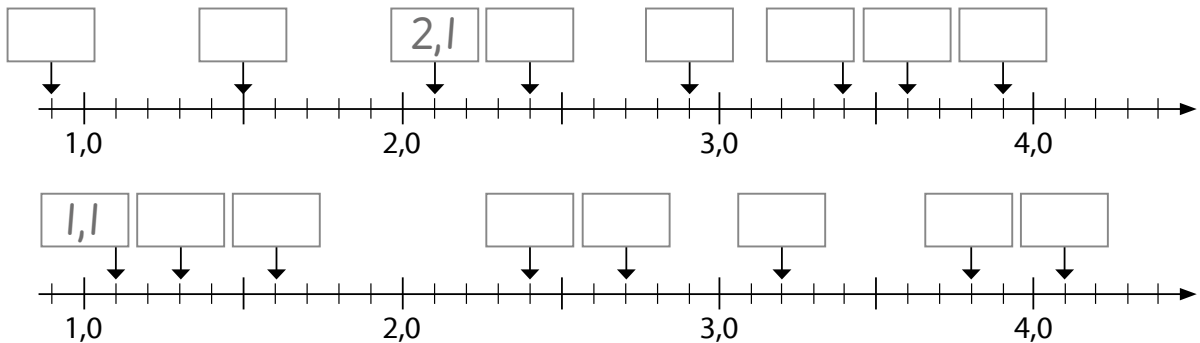
neljä kokonaista  
nolla kymmenesosaa \_\_\_\_\_



kolme kokonaista  
yhdeksän kymmenesosaa \_\_\_\_\_



2. Tutki lukusuoraa. Merkitse desimaaliluvut.



3. Jatka lukujonoa.

0,8	0,9	1,0							
1,6	1,7	1,8							
6,3	6,2	6,1							
8,5	8,4	8,3							