





31

Desimaaliluvun ja murtoluvun yhteys Nimi: _____



1. Yhdistä henkilö ja sopiva vesipullo. Jokaisen juomapullon tilavuus on 1 litra.



Minulla on jäljellä 0,9 litraa.



Minä olen juonut puoli litraa.



Minulla on jäljellä 7 dl.

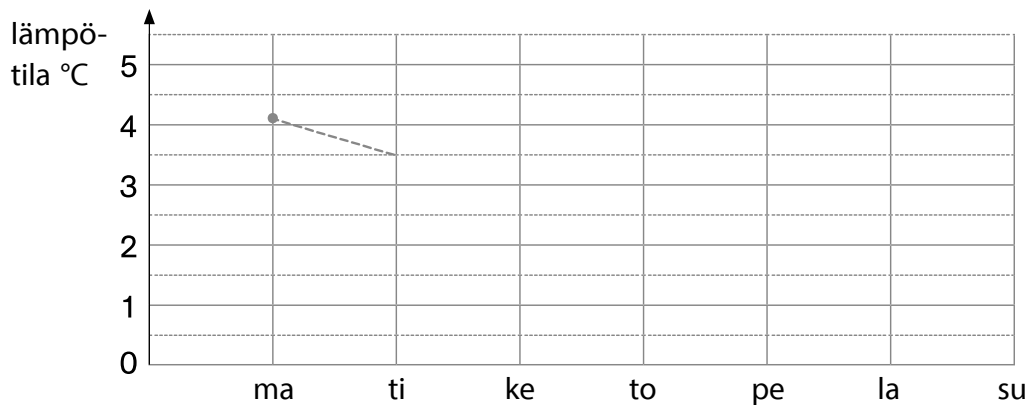


Minulla on jäljellä 0,3 litraa.



2. Merkitse lämpötilat kunkin päivän kohdalle. Yhdistä pisteet viivalla.

ma $4,1\text{ }^{\circ}\text{C}$ ti $3,5\text{ }^{\circ}\text{C}$ ke $2,4\text{ }^{\circ}\text{C}$ to $3,9\text{ }^{\circ}\text{C}$ pe $1,4\text{ }^{\circ}\text{C}$ la $4,2\text{ }^{\circ}\text{C}$ su $2,8\text{ }^{\circ}\text{C}$



3. Yhdistä samaa tarkoittavat mittaustulokset.

$\frac{1}{10}$ l	•	•	0,2 l	$\frac{1}{5}$ kg	•	•	100 g	$\frac{1}{2}$ km	•	•	250 m
$\frac{4}{10}$ l	•	•	0,1 l	$\frac{4}{5}$ kg	•	•	300 g	$\frac{1}{4}$ km	•	•	500 m
$\frac{1}{2}$ l	•	•	0,4 l	$\frac{1}{10}$ kg	•	•	200 g	$\frac{3}{4}$ km	•	•	200 m
$\frac{1}{5}$ l	•	•	0,6 l	$\frac{3}{10}$ kg	•	•	500 g	$\frac{1}{5}$ km	•	•	750 m
$\frac{3}{5}$ l	•	•	0,5 l	$\frac{1}{2}$ kg	•	•	800 g	$\frac{3}{5}$ km	•	•	600 m