
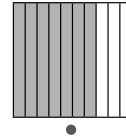
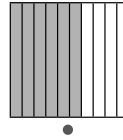
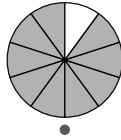
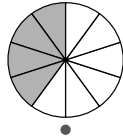
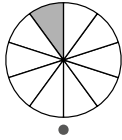


31

Desimaaliluvun ja murtoluvun yhteys Nimi: _____



1. Kuinka suuri osa kuviosta on väritetty?
Yhdistä kuvio, murtoluku ja desimaaliluku.



$$\frac{9}{10}$$

$$\frac{1}{10}$$

$$\frac{4}{10}$$

$$\frac{7}{10}$$

$$\frac{6}{10}$$

$$0,4$$

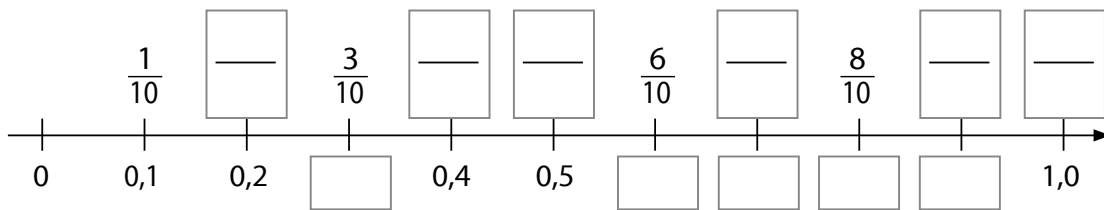
$$0,9$$

$$0,7$$

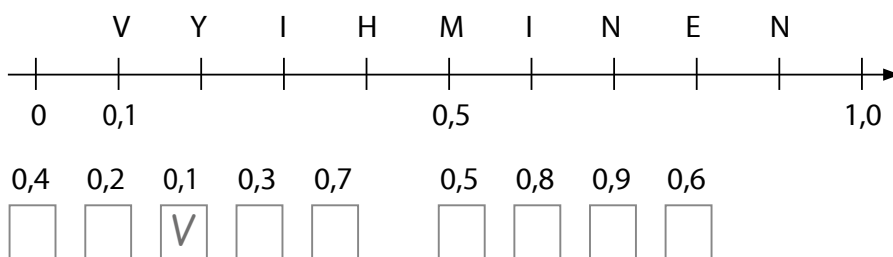
$$0,1$$

$$0,6$$

2. Merkitse ruutuihin lukusuoralta puuttuvat luvut.



3. Etsi luvun kohdalla oleva kirjain lukusuoralta.



4. Kirjoita murtoluku ja desimaaliluku.

Nolla kokonaista
yksi kymmenesosa

$$\frac{\quad}{10} = \quad$$

Nolla kokonaista
viisi kymmenesosaa

$$\frac{\quad}{10} = \quad$$

Nolla kokonaista
kahdeksan kymmenesosaa

$$\frac{\quad}{10} = \quad$$