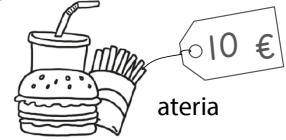
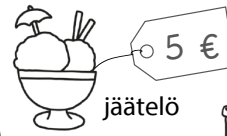
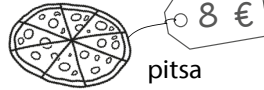

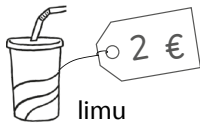
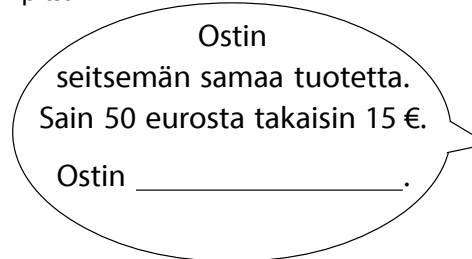




1. Päättele ostos.



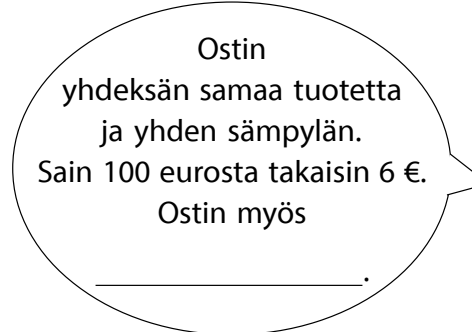
Ostin
neljä samaa tuotetta.
Sain 50 eurosta takaisin 34 €.
Ostin _____.



Ostin
seitsemän samaa tuotetta.
Sain 50 eurosta takaisin 15 €.
Ostin _____.



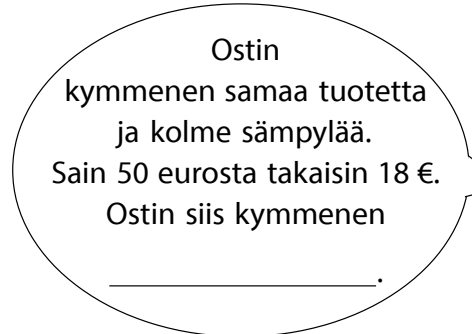
Ostin
kahdeksan samaa tuotetta
ja sain 100 eurosta
takaisin 36 €.
Ostin _____.



Ostin
yhdeksän samaa tuotetta
ja yhden sämpylän.
Sain 100 eurosta takaisin 6 €.
Ostin myös
_____.



Ostin
kuusi samaa tuotetta
ja kaksi jäätelöä.
Sain 60 eurosta takaisin 2 €.
Ostin siis kuusi
_____.



Ostin
kymmenen samaa tuotetta
ja kolme sämpylää.
Sain 50 eurosta takaisin 18 €.
Ostin siis kymmenen
_____.

2. Merkitse oikea luku ympyrän palasiin.

