

Afrikka

5. luokka

maaliskuu 2015

Tutki Afrikan karttaa

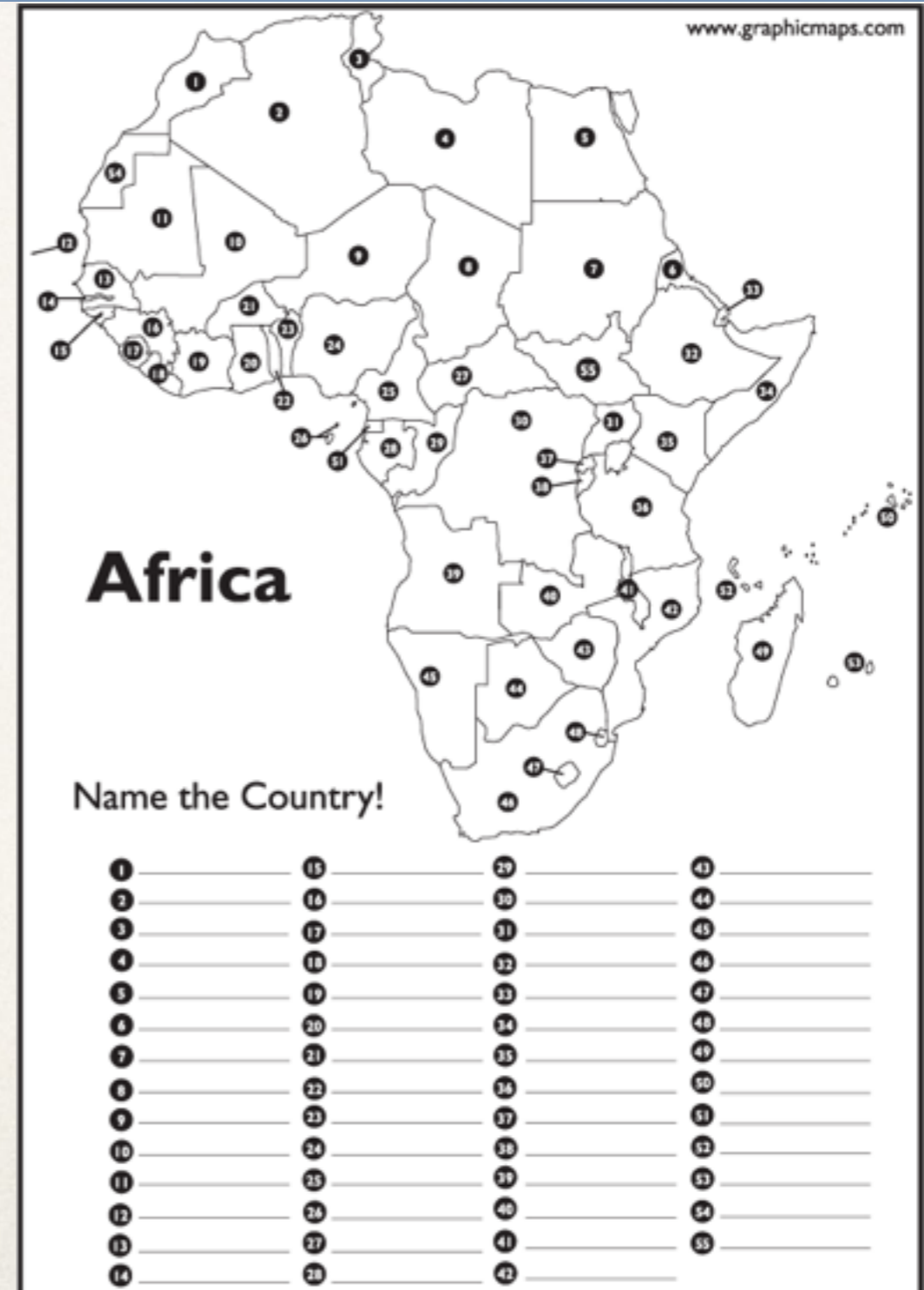
- ❖ Mikä käänttöpiiri kulkee Saharan halki?
- ❖ Luettele Afrikan valtioita (3kpl) jotka sijaitsevat tällä käänttöpiirillä?
- ❖ Mikä käänttöpiiri kulkee Namibian aavikon halki?
- ❖ Luettele Afrikan valtioita (3kpl) jotka sijaitsevat tällä käänttöpiirillä?

Tutki seuraavia koordinaattipisteitä, mitä valtioita löydät pisteistä? S. 105

- ❖ $30^{\circ}\text{N}, 20^{\circ}\text{E}$
- ❖ $10^{\circ}\text{S}, 20^{\circ}\text{E}$
- ❖ $20^{\circ}\text{N}, 10^{\circ}\text{W}$
- ❖ $10^{\circ}\text{N}, 50^{\circ}\text{E}$
- ❖ $30^{\circ}\text{N}, 30^{\circ}\text{E}$

Afrikan kartta

- ❖ Tee karttavihkoon kartta Afrikan valtioista
- ❖ Nimeä valtiot, käytä numeroita apuna



Afrikan yleiskartta

- ❖ merkitse karttaan päiväntasaaja punaisella
- ❖ nimeä meret, väritä merialueet
- ❖ nimeä järvet ja joet, lisää niihin väriä
- ❖ nimeä vuoristoja, aavikoita, Afrikan korkein vuori
- ❖ nimeä karttaan 10 kaupunkia




Afrikan kasvillisuus



- ❖ Tee kartta Afrikan kasvillisuusvyöhykkeistä
- ❖ Rajaa alueet karttaan, väritä ne
- ❖ Muista tehdä selitykset väreille
- ❖ Piirrä myös kylmät ja lämpimät merivirrat karttaan

Aavikko

- ❖ Millainen on aavikko?
- ❖ Millaista kasvillisuutta siellä on?
- ❖ Mikä on keidas?
- ❖ Esittele jokin Aavikon eläin (morfolla)




Savanni

- ❖ Mikä on savanni?
- ❖ Mitkä kaksi kautta rytmittävät elämaa savannilla?
- ❖ Mikä on eroosio?
- ❖ esittele jokin savannin eläin (morfolla)



Sademetsä

- ❖ Miksi sademetsää kutsutaan maapallon kehkoiksi?
- ❖ Millainen ilmasto sademetsissä on?
- ❖ Mitä tarkoittaa monimuotoisuus?
- ❖ Mikä uhkaa sademetsiä?
- ❖ esittele jokin sademetsän eläin (morfolia)



Köyhä, mutta rikas maa?

- ❖ elinkeinot
- ❖ koulutus
- ❖ kehitysmaa
- ❖ nälkä ja nälänhätä