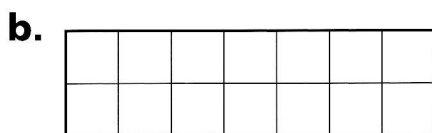
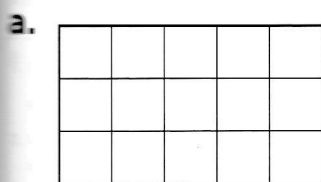


5 Merkitse lasku ja laske suorakulmion pinta-ala ruutuina.



A = \_\_\_\_\_

A = \_\_\_\_\_

/4

6 Merkitse lasku ja laske.

a. Neliön sivun pituus on 13 cm. Mikä on neliön piiri?

b. Suorakulmion sivut ovat 11 m ja 7 m. Mikä on suorakulmion piiri?

\_\_\_\_\_

\_\_\_\_\_

p = \_\_\_\_\_



\_\_\_\_\_

\_\_\_\_\_

p = \_\_\_\_\_

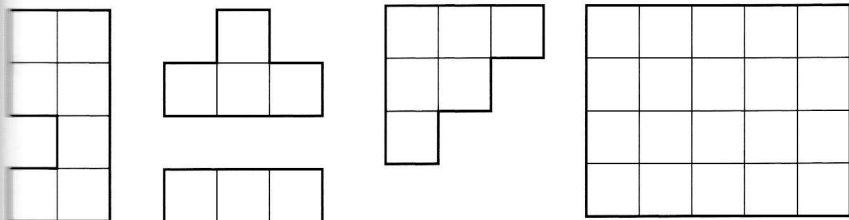
/4

7 Piirrä ruudukkoon kolme monikulmioita, joiden pinta-ala on 6 ruutua, mutta niillä on eri piiri.



/3

8 Täytä ruudukko. Käytä jokaista palaa yhden kerran. Paloja ei saa kääntää.



/2