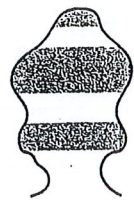
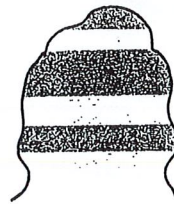


1. A) Miksi aavikon kallio kuvassa 1 on muuttunut nykyisen muotoiseksi?

1

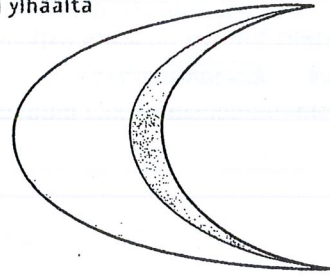


2. Piirroksissa 2 a ja b on aavikon dyyni ylhäältä piirrettynä ja sen poikkileikkaus.

- A) Piirrä kuvaan b pari dyynin tulevaa paikkaa.  
B) Miksi dyynin huippu pysyy teräväreunaisena?

2a

dyyni ylhäältä



2b

dyynin poikkileikkaus

vallitseva tuuli



3. A) Osoita kuvan 3 jokimaisemaan paikkoja, joihin merkitset

V-laakso pohjaeroosiota rannan kulumista aineksen kasausta nopea virtaus hidas virtaus

B) Miten jokiuoma tulee muuttumaan aikojen kuluessa?

---

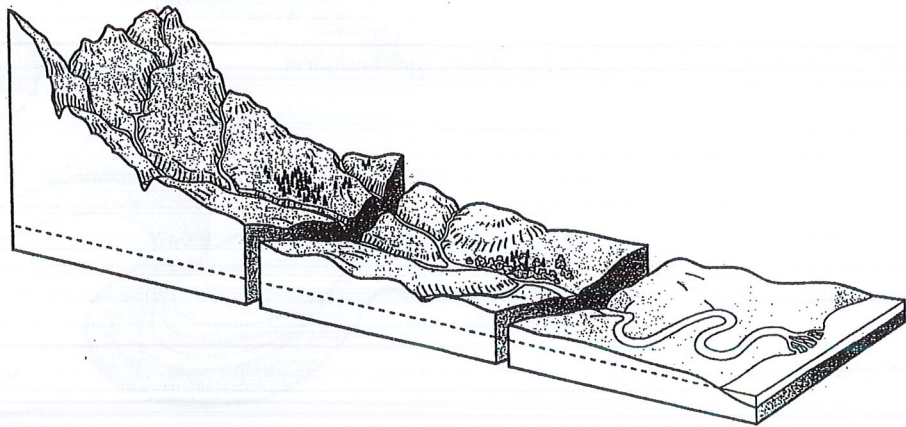


---

C) Mikä muuttuu eniten, yläjuoksu, keskijuoksu vai alajuoksu? Miksi?

---

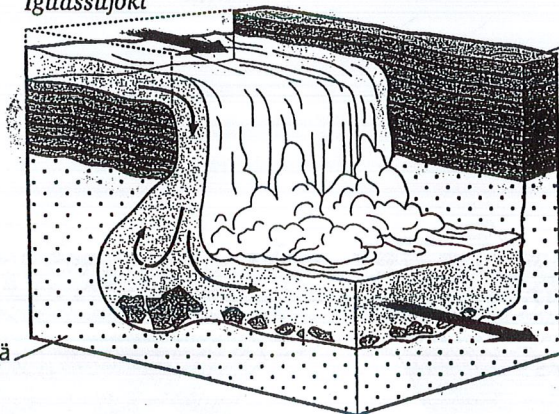
3



4

Iguassujoki

pehmeää kivilajia



kovaa kerrostunutta kivilajia

4. A) Selitä, miksi Iguassun putous Argentiinan ja Brasilian rajalla ei loivene koskeksi.

---



---

B) Miten putouksen paikka muuttuu?

---