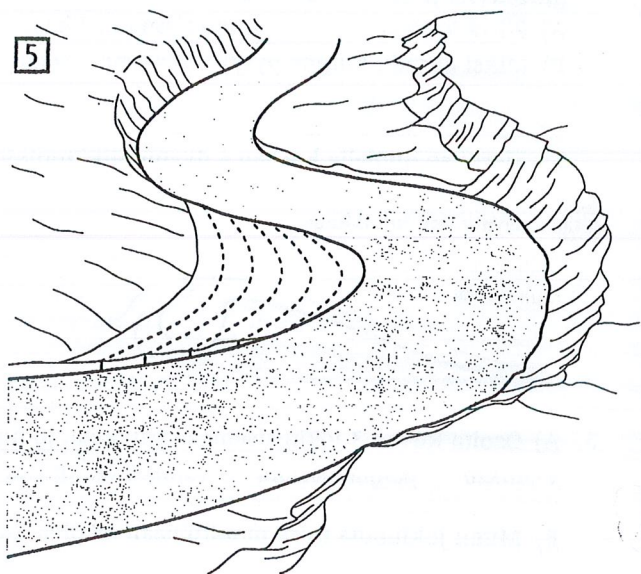
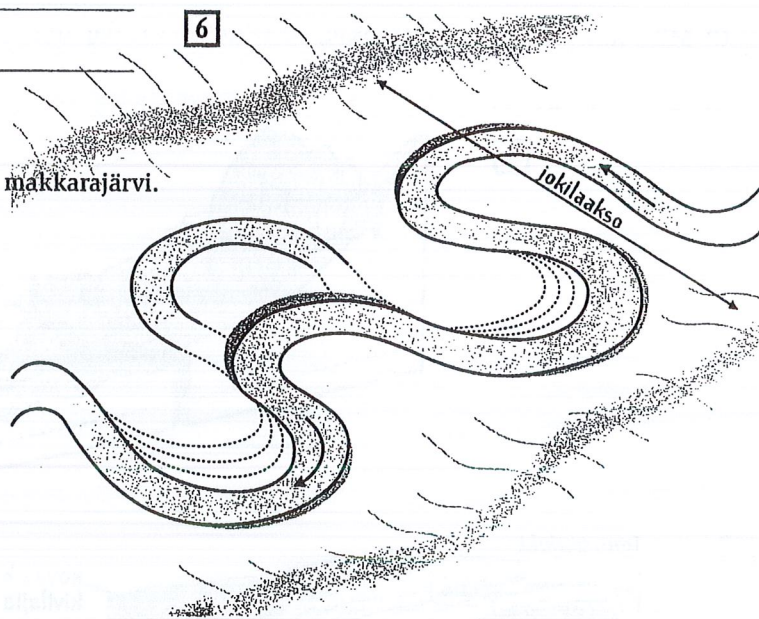


5. A) Piirrä kuvan 5 jokeen nopeimman virtauksen reitti.
 B) Kirjoita kuvaan oikeisiin paikkoihin
kulutus kasaantuminen
 C) Piirrä jokiuoman paikka muutamia kymmeniä
 vuosia sitten.



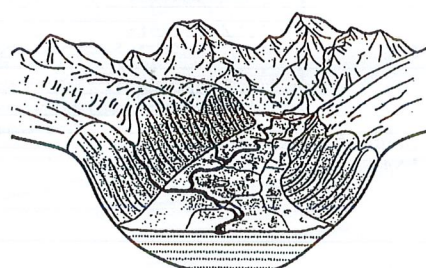
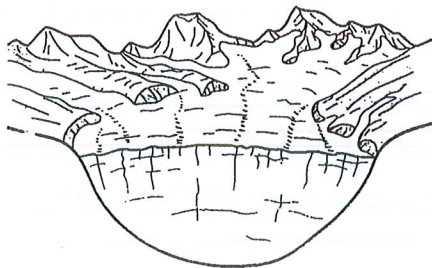
6. A) Miten kuvan 6 jokeen on syntynyt makkarajärvi?

- B) Merkitse kuvaan, mihin syntyy seuraava makkarajärvi.



7. Selvitä kuvasarjassa 7 olevan laakson kehitysvaiheet kuvien alle.

7



a. _____

b. _____

c. _____
