





1. Nimeä virtapiirin piirrosmerkit

Piirrosmerkki	Komponentin nimi
	
	
	

2. Tee kytkentäkaavion mukainen kytkentä . Mitä tapahtuu

- a) Ennen kytkimen sulkemista?
- b) kun kytkin suljetaan?.



3. Tee kytkentäkaavion mukainen kytkentä . Mitä tapahtuu

- a) Ennen kytkimen sulkemista?
- b) kun kytkin suljetaan?.

