

Kertausta

Suorakulmio:



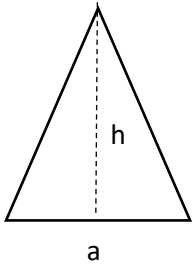
Pinta-ala:



Piiri:



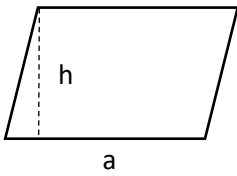
Kolmio:



Pinta-ala:



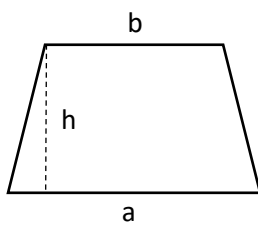
Suunnikas:



Pinta-ala:



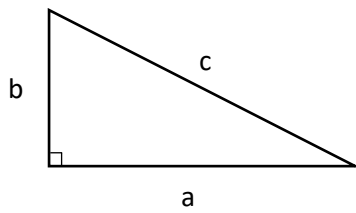
Puolisuunnikas:



Pinta-ala:



Pythagoraan lause:



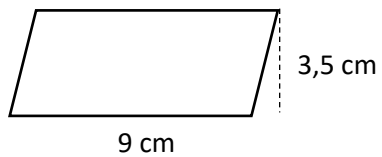
Pythagoraan lause:

Tehtävä 1. Suorakulmion kanta on 5 cm ja korkeus 8 cm. Laske suorakulmion pinta-ala ja piiri.

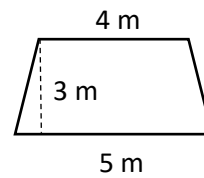
Tehtävä 2. Kolmion kanta on 7 cm ja korkeus 5 cm. Laske kolmion pinta-ala.

Tehtävä 3. Laske kappaleiden pinta-alat.

a)



b)



Tehtävä 4. Suorakulmaisen kolmion kanta $a = 4$ cm ja kanta $b = 6$ cm. Laske hypotenuusan c pituus.