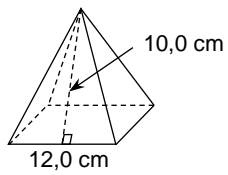


1. Laske neliöpohjaisen pyramidin



a) pohjan pinta-ala

b) vaipan pinta-ala

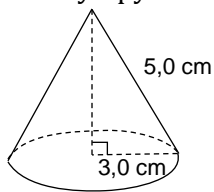
c) kokonaispinta-ala.

2. Laske ympyräkartion

a) pohjan pinta-ala

b) vaipan pinta-ala

c) kokonaispinta-ala.

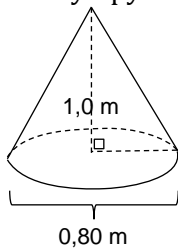


3. Laske ympyräkartion

a) pohjan pinta-ala

b) vaipan pinta-ala

c) kokonaispinta-ala.



Tulokset: 1. a) 144 cm^2 b) 240 cm^2 c) 384 cm^2

2. a) 28 cm^2 b) 47 cm^2 c) 75 cm^2

3. a) $0,50 \text{ cm}^2$ b) $1,4 \text{ cm}^2$ c) $1,9 \text{ cm}^2$