

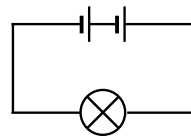
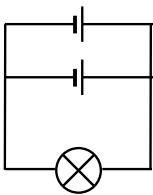
4. Miten on mahdollista, että negatiivisesti varautunut viivoitin vetää puoleensa sähköisesti neutraalia paperipalaa?

/3

5. Selosta sopivaa kytkentäkaaviota hyväksi käyttäen, kuinka voit määrittää vastuksen resistanssin.

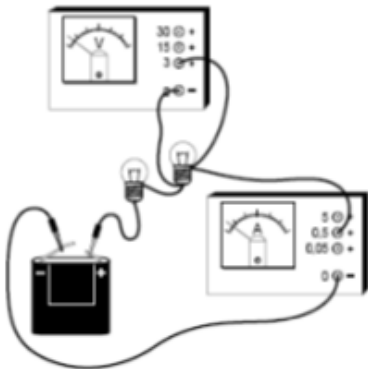
/3

6. Mikä kytkentätyyppi on kyseessä seuraavilla paristoilla? Mitä hyötyä näistä kytkennöistä on?



/3

7. Piirrä kuvasta kytkentäkaavio.



/2