

1. Onko väittämä OIKEIN vai VÄÄRIN.

- a) Samanmerkkiset sähkövaraukset hylkivät toisiaan.
- b) Metallit ovat hyviä johteita.
- c) Kotitalouksissa käytettävä verkkojännite on 120 volttia.
- d) Pistorasiasta saatava verkkovirta on tasavirtaa.
- e) Virtapiiri on sähkövirran kulkureitti.
- f) Kumi on eriste.

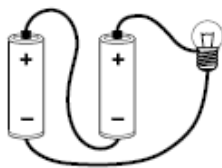
/3

2. Miten sinä voit säästää sähköä? Kerro kolme asiaa.

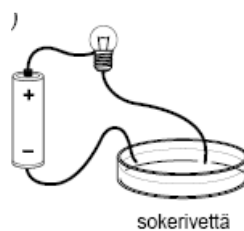
/3

3. Hehkuuko lamppu vai ei? **Perustele lyhyesti miksi!**

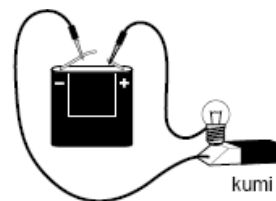
a)



b)



c)



d)



e)



/5