




Kokoa palaset ja selvitä muodostuneen
kuvan perusteella, minne matkaamme
seuraavaksi!










Piirustustehtävä

Kaupungin tunnetuin arkkitehti Iktinos on aloittanut asuintalon suunnittelemisen, mutta, koska hän on kiireinen mies hän pyytää apuasi. **Tehtävänäsi on piirtää tarkasti ohjeiden mukainen talo.**

- talot ovat usein pieniä, yksi- tai kaksikerroksisia
- jos talossa on yläkerta, sinne kiivetään ulkopuolelta puutikkaita pitkin
- talojen seinät on tehty puusta, tiilestä ja pienistä kivistä, jotka on muurattu savesta tehdyllä laastilla
- ovet avautuvat ulospäin
- taloissa on pienet ikkunat, jotka peitetään kankailla







Kirjoitustehtävä

- ❖ Kirjoita nimesi paperille aakkostaulukon avulla

**Aα Ββ Γγ Δδ Εε Ζζ Ηη Θθ Ιι Κκ Λλ Μμ Νν
Ξξ Οο Ππ Ρρ Σσ Ττ Υυ Φφ Χχ Ψψ Ωω**

Äänestystehtävä: Mitä mieskansalaiset tekevät?

- a) Käyvät kauempana töissä, esim. kaivoksilla, sillä heidän täytyy elättää perheensä
- b) Viettävät aikaa torilla keskustellen, juhlien ja käyvät kansankokouksissa
- c) Suurin osa heistä kuului Caesarin sotajoukkoihin ja he käyttivät aikansa sotaharjoituksissa





Missä maassa ja kaupungissa
liikuimme?

Entä millä aikakaudella?