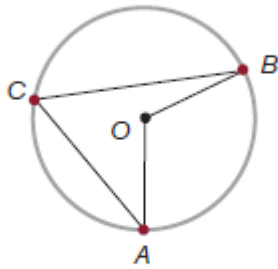


Keskuskulma ja kehäkulma

359. Nimeä kuvasta kolmen pisteen avulla

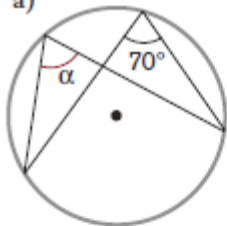
- a) keskuskulma b) kehäkulma.



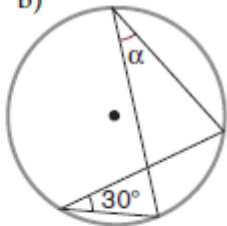
360. Päättele mittaamatta kulman α suuruus.

Perustele vastauksesi.

a)

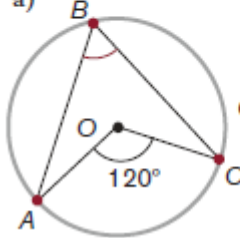


b)

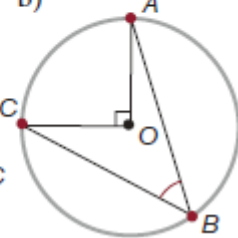


361. Laske kulman ABC suuruus.

a)



b)



363. Kuinka suuri on keskuskulma, jos sitä

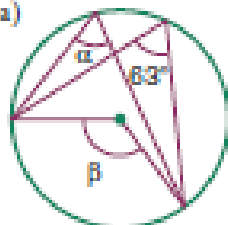
vastaava kehäkulma on

- a) 30° b) 60° c) 75° ?

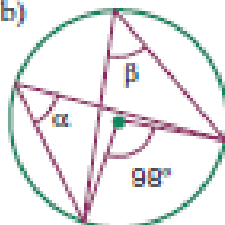
K130. Laske kulmien α , β ja γ suuruudet.

Perustele vastauksesi.

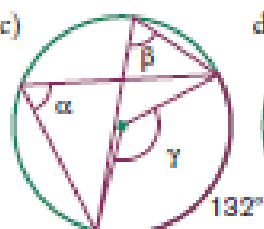
a)



b)



c)



d)

