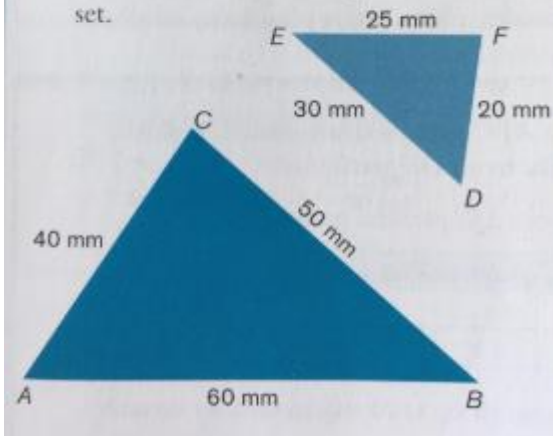


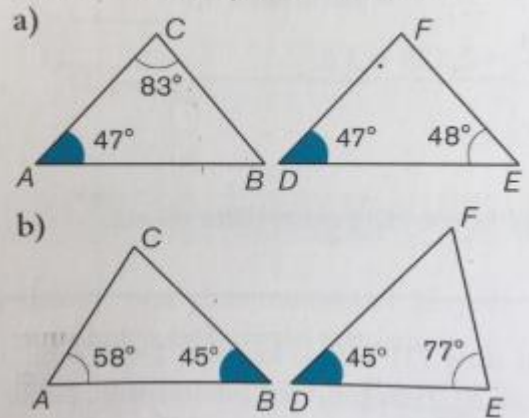
t. 1 A

Tutki laskemalla sivujen pituuksien suhteet, ovatko kolmiot yhdenmuotoiset.

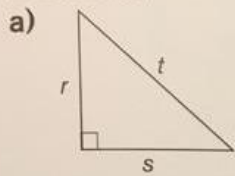


t. 1 B

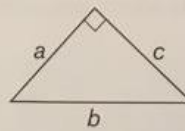
Tutki kulmien suuruuksien avulla, ovatko kolmiot yhdenmuotoiset.



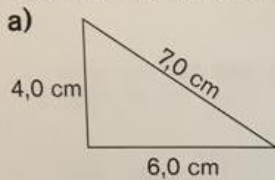
2. Kirjoita Pythagoraan lauseen mukainen yhtälö, jonka kolmion sivujen pituudet toteuttavat.



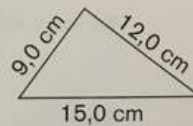
b)



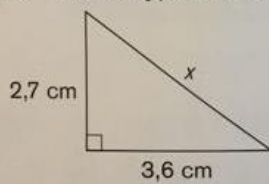
3. Tutki laskemalla, onko kolmio suorakulmainen.



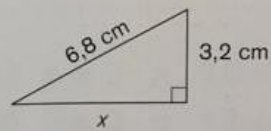
b)



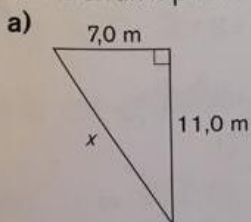
4. a) Laske hypotenuusan x pituus.



b) Laske kateetin x pituus.



5. Laske sivun x pituus.



b)

