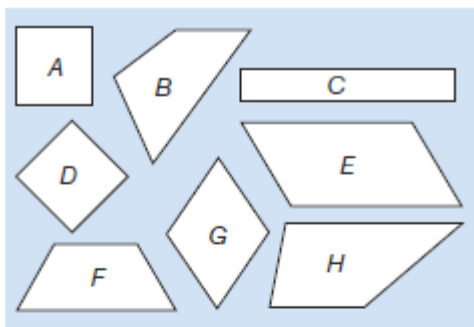


## Nelikulmiot

441.



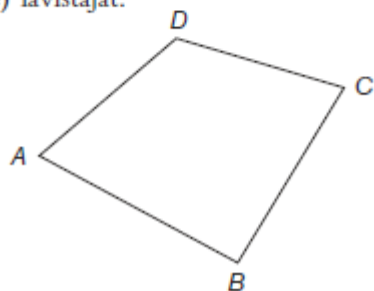
Mitkä nelikulmioista ovat

- puolisuunnikkaita
- suunnikkaita
- neljäkkäitä
- suorakulmioita
- neliöitä?



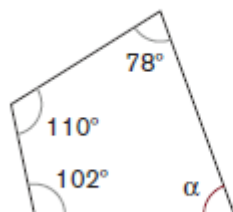
442. Nimeä nelikulmiosta  $ABCD$

- sivun  $BC$  vastakkainen sivu
- kulman  $D$  vastakkainen kulma
- sivun  $CD$  viereiset sivut
- kulman  $A$  viereiset kulmat
- lävistäjät.

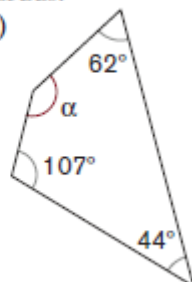


443. Laske kulman  $\alpha$  suuruus.

a)



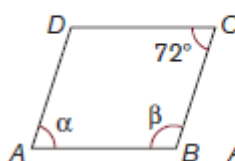
b)



450. Nelikulmio  $ABCD$  on suunnikas.

Laske kulmien  $\alpha$  ja  $\beta$  suuruudet.

a)



b)

