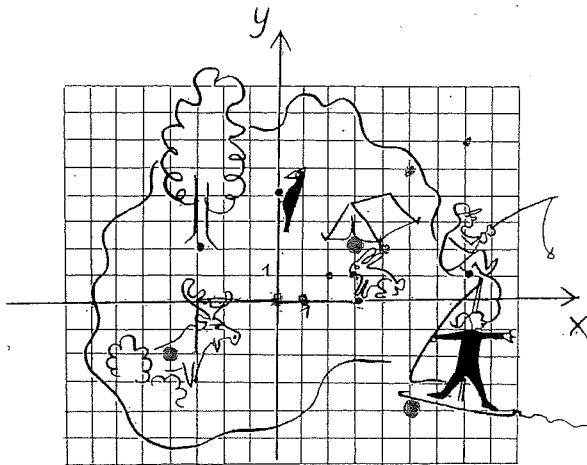

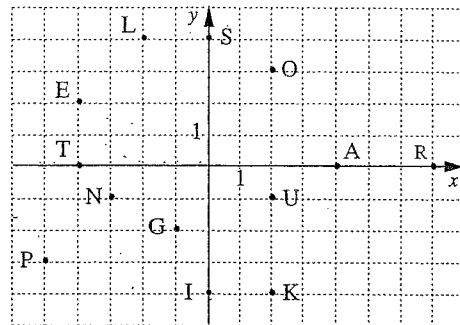


KOORDINAATISTO



- Mitä kuvassa on piirretty seuraavien pisteiden viereen?
 a) (7, 1) b) (-3, 2) c) (3, 0)
 Minkä pisteen vieressä on
 d) telttä
 e) hirvi
 f) lainelautailija?
- Mikä lentää?
 Merkitse pisteet koordinaatistoon ja yhdistä ne janoilla järjestyksessä.
 (0, 0), (1, 0), (2, 1), (3, 1), (4, 2),
 (5, 5), (7, 6), (7, 4), (4, 2)
- Mikä karhulle maistuu talvella?
 Merkitse pisteet samaan koordinaatistoon. Yhdistä a-kohdan pisteet toisiinsa janalla. Samoin b-kohdan ja c-kohdan pisteet.
 a) (4, 1), (4, 3)
 b) (2, 3), (2, 1), (0, 3), (0, 1)
 c) (-4, 3), (-4, 1), (-2, 1), (-2, 3)
- Yhdistä pisteet janoilla järjestyksessä.
 (-3, 1), (-3, 2), (-2, 3), (-2, -1),
 (-1, -1), (-1, 2), (2, 2), (2, -1),
 (3, -1), (3, 2), (4, 3), (4, 2), (5, 2),
 (5, 3), (4, 4), (3, 3), (-2, 3)

5. Ratkaise salakirjoitus.



(2, 3), (7, 0), (0, -4), (-1, -2), (2, 3),
 (2, 3), (-3, -1), (4, 0), (2, -4), (0, 4),
 (-4, 2), (-2, 4), (0, -4), (-4, 2), (-3, -1),
 (-2, 4), (-4, 2), (0, -4), (2, -4), (2, -4),
 (4, 0), (2, -1), (0, 4), (-5, -3), (0, -4),
 (0, 4), (-4, 0), (-4, 2)

6. Mikä korvaa herätyskellon?

Merkitse pisteet koordinaatistoon ja yhdistä ne janoilla järjestyksessä.

(-2, 0), (-1, -1), (1, -1), (1, 2), (2, 3),
 (7, 3), (4, 2), (7, 1), (4, 1), (5, -3),
 (3, 0), (3, -3), (0, -6), (-3, -6), (-5, -5),
 (-6, -3), (-5, 0), (-6, 1), (-4, 3),
 (-5, 3), (-4, 4), (-4, 6), (-3, 5), (-2, 6),
 (-2, 5), (-1, 5), (-2, 4), (-2, 0)

7. Mikä sana muodostuu?

Merkitse koordinaatistoon pisteet
 A(-4, 1), B(-1, 5), C(2, 5), D(4, 5),
 E(3, 3), F(5, 3), G(-4, 5), H(-1, 1),
 I(1, 1), J(-4, 3), K(0, 5), L(6, 1),
 M(-2, 1), N(2, 1), P(1, 5), R(-2, 5)

Piirrä janat

DN, CK, JR, EF, AG, BH, DL, JM, IP



Keksi itse oma koordinaatistotehtävä ja anna se toverisi ratkaistavaksi.