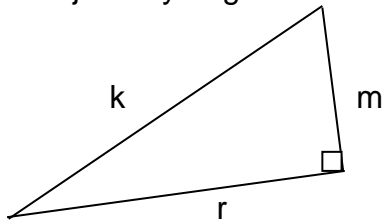
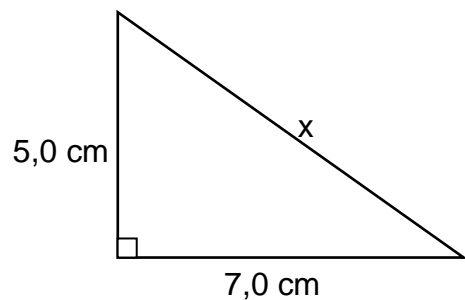


## Pythagoraan lause

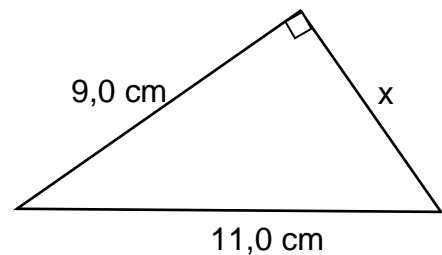
1. Kirjoita Pythagoraan lause tehtävän kolmiosta.



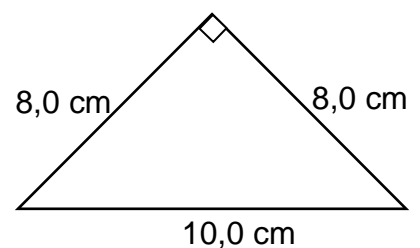
3. Laske sivun x pituus.



4. Laske sivun x pituus.



5. Laske kolmion pinta-ala.



- Vastaukset:**
- $k^2 = r^2 + m^2$  tai  $r^2 + m^2 = k^2$ .
  - 8,6 cm
  - 6,3 cm
  - 31 tai 32 cm<sup>2</sup> (riippuu laskentatavasta, koska sivun pituudet likiarvoja)