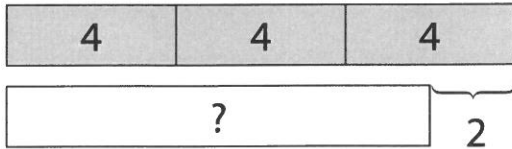
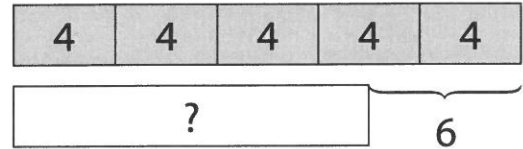


Tee lasku ja laske.


1. 4 kynän pakkauksia on 3.  
Venla ottaa 2 kynää.  
Kuinka monta kynää jää?




2. 4 kynän pakkauksia on 5.  
Manu ottaa 6 kynää.  
Kuinka monta kynää jää?



3. 5 sämpylän pusseja on 6.  
Äiti ottaa 4 sämpylää.  
Kuinka monta sämpylää jää?



4. 6 pullan pusseja on 3. Isä ottaa 5 pullaa.  
Kuinka monta pullaa jää?



5. Laske ja yhdistä vene oikeaan saareen.

