

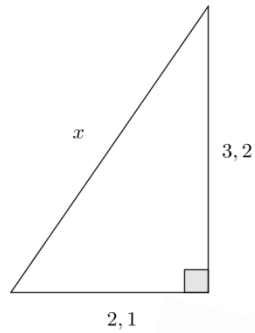
MAB2 – VÄLITESTI 2

kirjan s. 34-52.

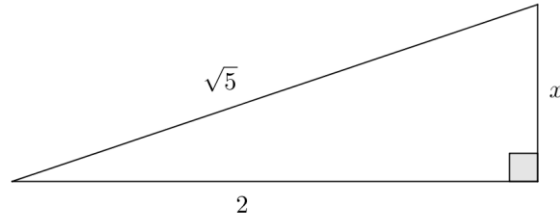
Laske tehtävät vihkoosi. Kun olet valmis, tarkista ja pisteytä vastauksesi tarkistusmonisteen avulla. Jos sait vähintään 9/12 pistettä, olet valmis siirtymään seuraavaan osioon!

1. Ratkaise sivun x pituus (3 p.)

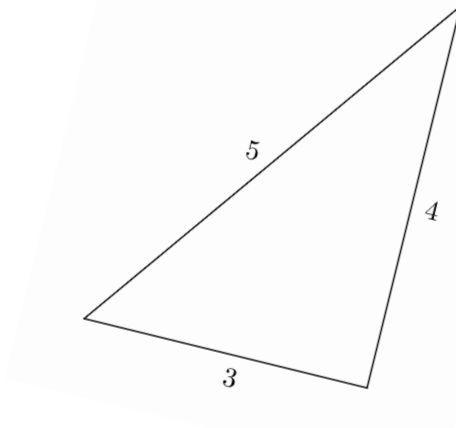
a)



b)

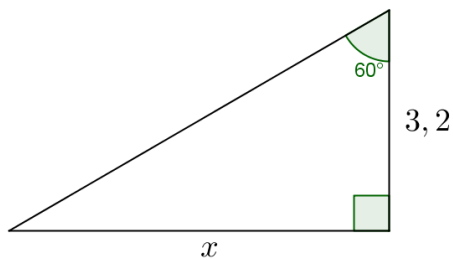


2. Onko alla oleva kolmio suorakulmainen? Perustele. (3 p.)



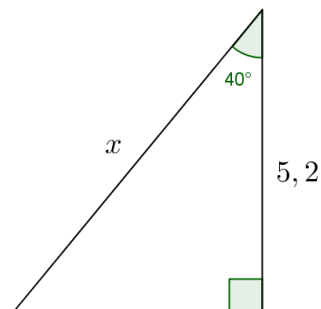
3. Ratkaise sivun x pituus. Pituudet ovat senttimetrejä. Muista pyöristää!

a)



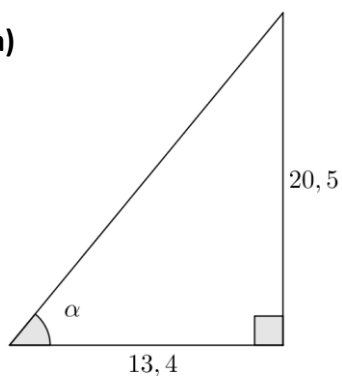
b)

(3p)



4. Ratkaise kulman α suuruus

a)



b)

(3p)

