





Nimi: \_\_\_\_\_


1. Tunnista karttamerkit.

a.  \_\_\_\_\_

b.  \_\_\_\_\_

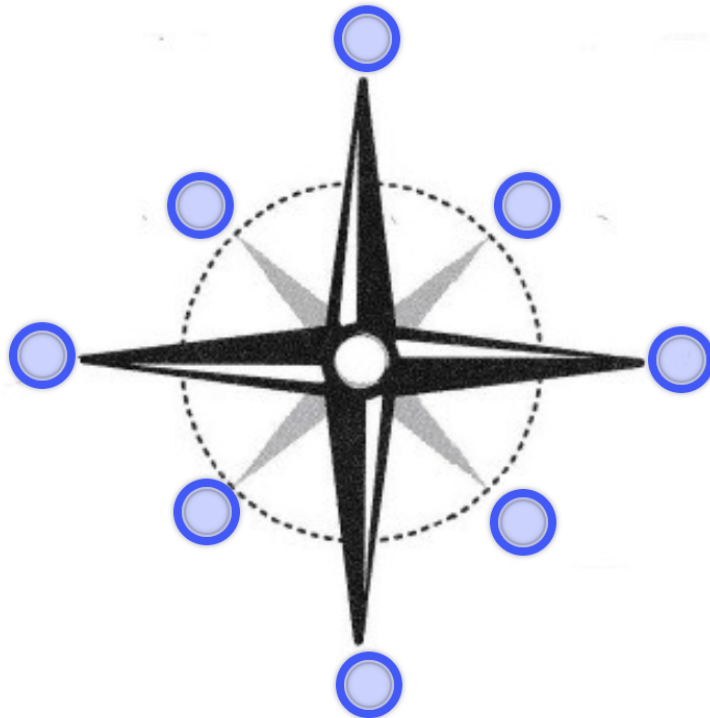
c.  \_\_\_\_\_

d.  \_\_\_\_\_

e.  \_\_\_\_\_

d.  \_\_\_\_\_

2. Nimeä ilmansuunnat.



Nimi: \_\_\_\_\_

3. Millä tavoin kartoissa kuvataan korkeuseroja?

---

---

4. Piirrä vihkoosi kartta koulun pihasta.