

1. Laske prosenttiarvot.


100 %	a. 600 €	b. 1 000 €	c. 50 €
1 %			

1 % on yksi sadasosa.

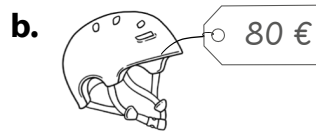


100 %	d. 200 kg	e. 1 400 €	f. 30 m	g. 120 €
1 %				
3 %				
6 %				
9 %				

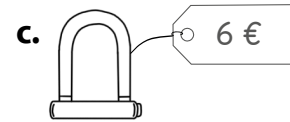
2. Päättele tai laske prosenttiarvot.



1 %	$\frac{250 \text{ €}}{100} =$
5 %	
10 %	



1 %	
2 %	
4 %	



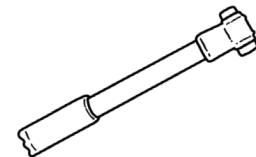
1 %	
3 %	
6 %	

3. Tee lasku ja laske.

Polkupyörän pumppu maksoi 70 €. Koivukoski maksoi hinnasta 80 %.

Kuinka paljon Koivukoski maksoi pumpusta?

_____ V: _____



4. Päättele, kuinka paljon rahaa lapsilla on.



Tässä on 50 % rahoistani.
Minulla on _____.



Tässä on 10 % rahoistani.
Minulla on _____.



Tässä on 30 % rahoistani.
Minulla on _____.