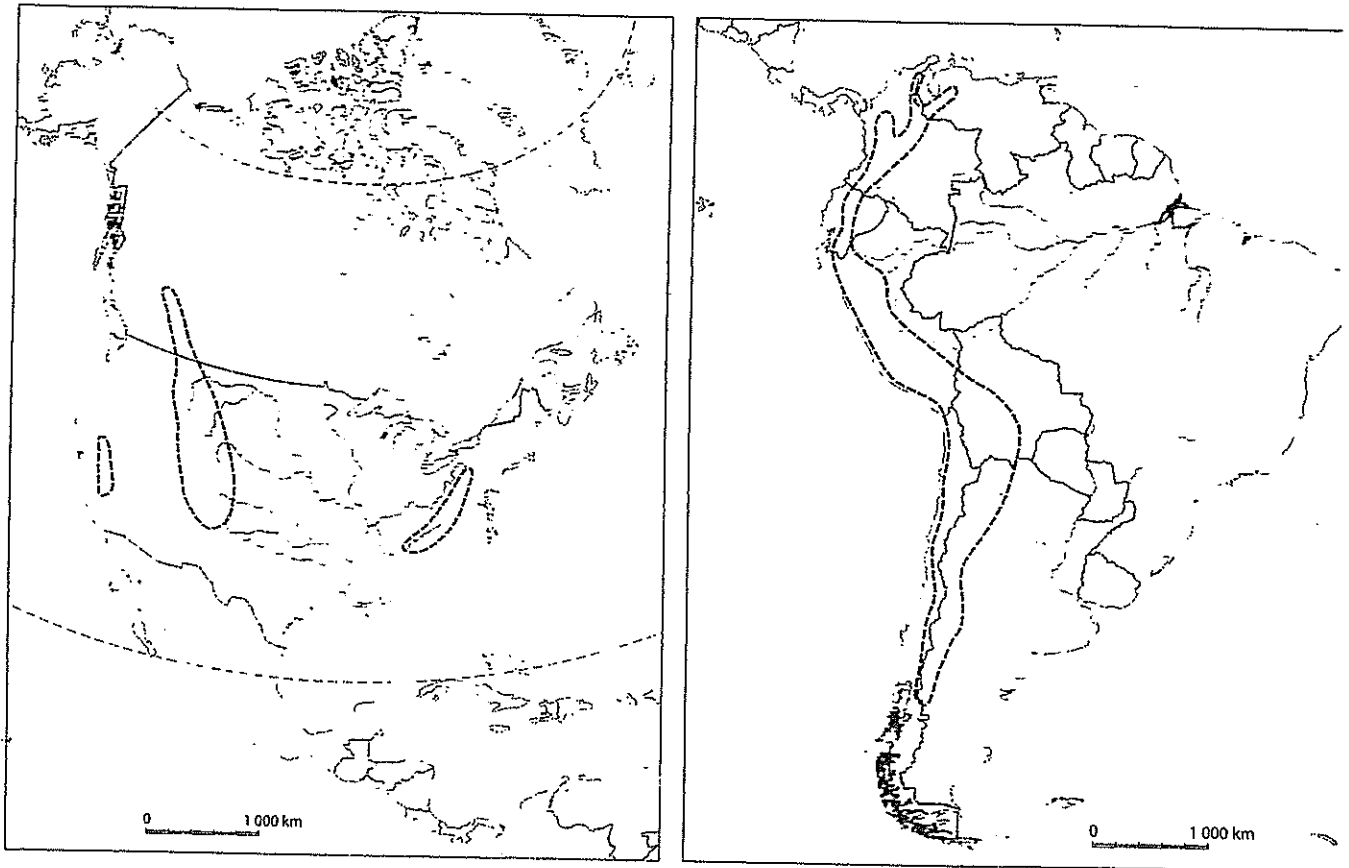


9. Amerikan nimistö



Numeroi karttaan.

vuoristot

1. Andit
2. Appalakit
3. Kalliovuoret
4. Sierra Nevada

meret ja lahdet

5. Hudsoninlahti
6. Karibianmeri
7. Meksikonlahti

joet ja järvet

8. Amazon
9. Eriejärvi
10. Colorado
11. Huronjärvi
12. Michiganjärvi
13. Mississippijoki
14. Missouri
15. Ontariojärvi
16. Paraná
17. Saint-Lawrence-joki
18. Yläjärvi

niemimaat, saaret ja saaristot

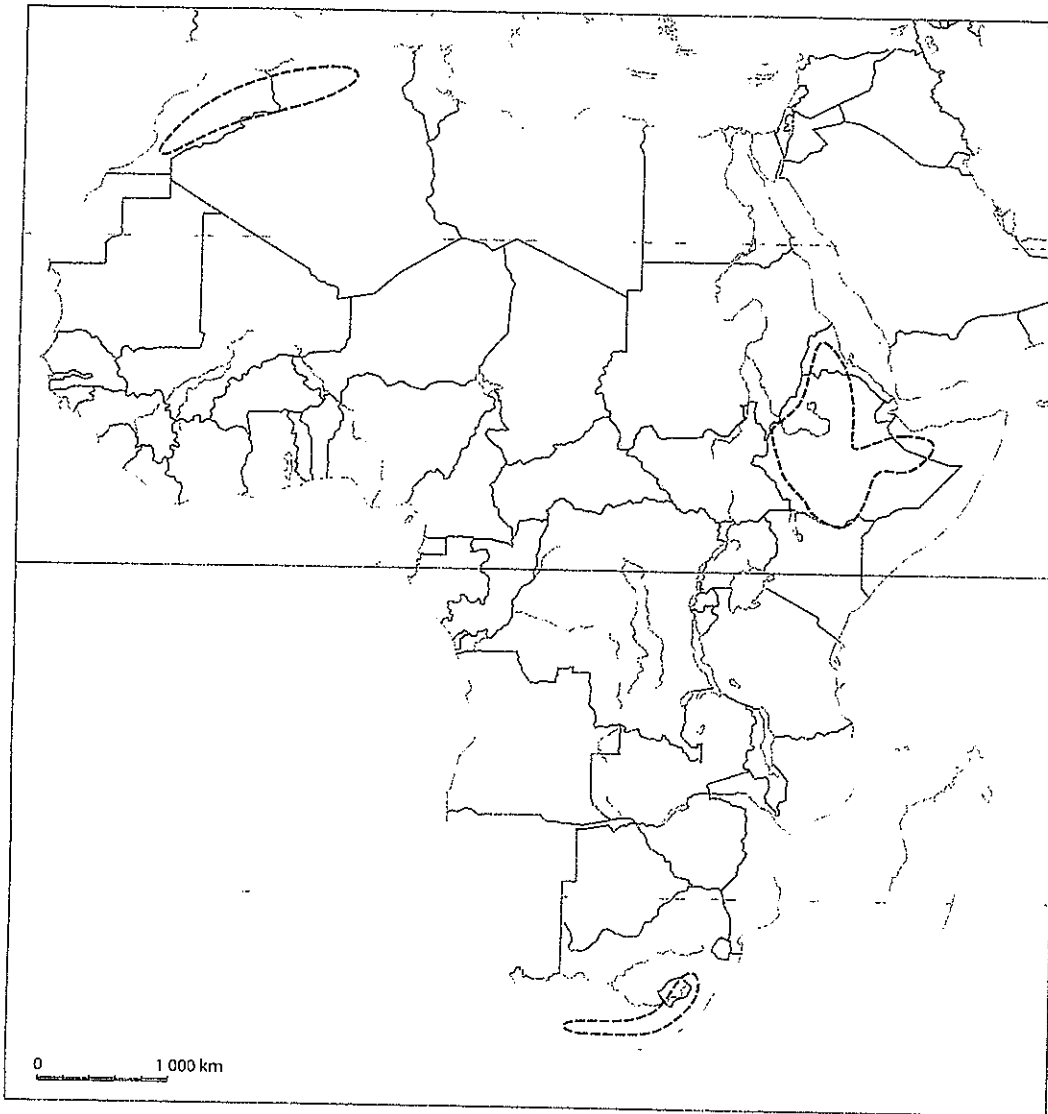
19. Arktiset saaret
20. Bahamasaaret
21. Florida
22. Galápagossaaret
23. Grönlanti
24. Isot Antillit
25. Jukatanin niemimaa
26. Kalifornian niemimaa
27. Länsi-Intian saaristo
28. Tulimaa

valtiot

29. Argentiina
30. Belize
31. Bolivia
32. Brasília
33. Chile
34. Costa Rica
35. Dominikaaninen tasavalta

36. Ecuador
37. El Salvador
38. Guatemala
39. Guyana
40. Haiti
41. Honduras
42. Jamaika
43. Kanada
44. Kolumbia
45. Kuuba
46. Meksiko
47. Nicaragua
48. Panama
49. Paraguay
50. Peru
51. Ranskan Guayana
52. Surinam
53. Uruguay
54. Venezuela
55. Yhdysvallat

Afrikan nimistö



Numeroi karttaan.

vuoristot ja ylängöt

1. Atlasvuoret
2. Ethiopian ylänkö
3. Lohikäärmevuoret

joet ja järvet

4. Kongo
5. Niger
6. Malawijärvi
7. Oranje
8. Sambesi
9. Sininen Niili
10. Tanganjikajärvi
11. Tšadjärvi
12. Valkoinen Niili
13. Victoriajärvi

lahdet, saaret ja kanava

14. Adeninlahti
15. Guineanlahti
16. Kanariansaaret

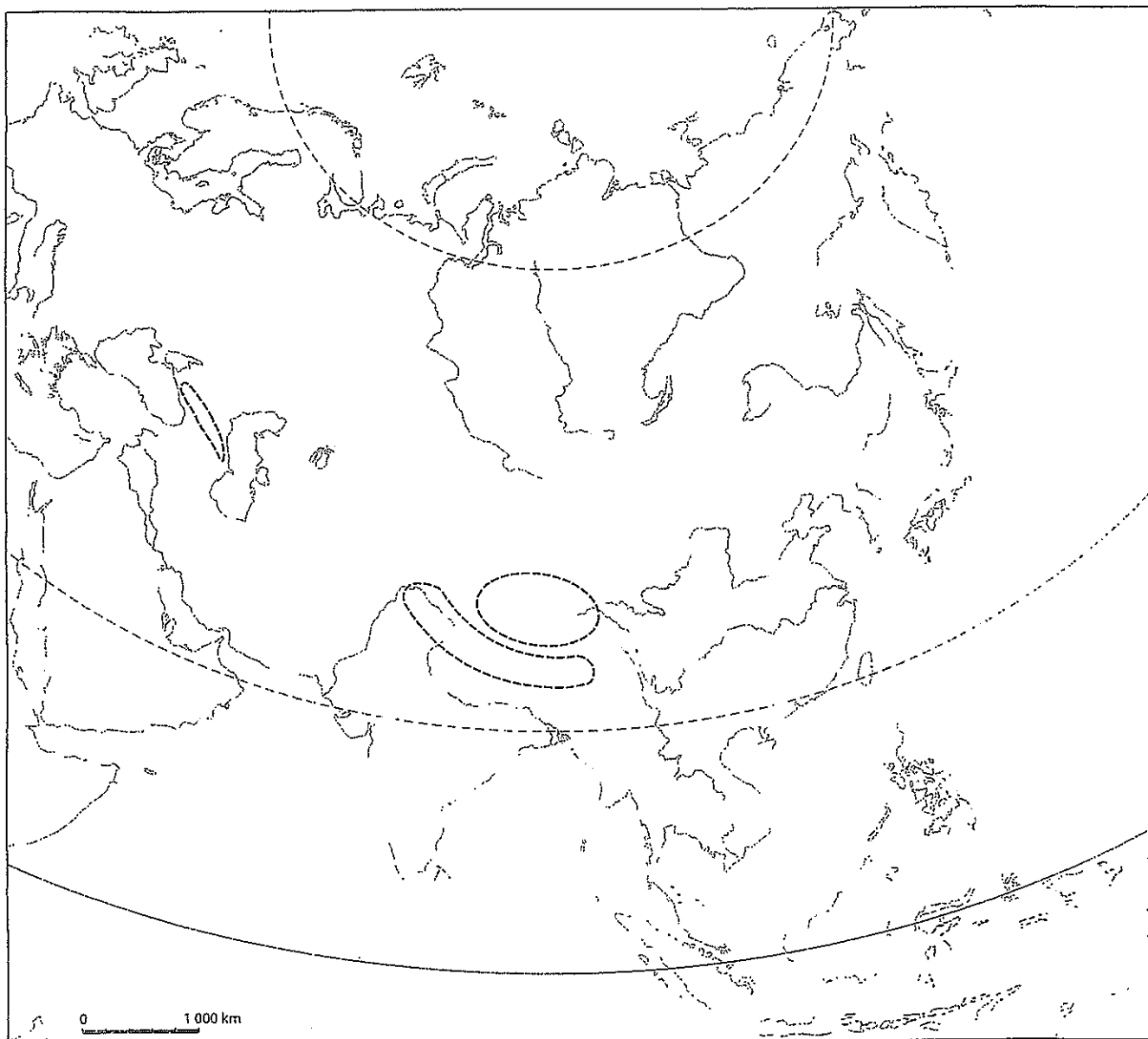
17. Komorit
18. Madagaskar
19. Punainenmeri
20. Suezin kanava

valtiot

21. Algeria
22. Angola
23. Benin
24. Botswana
25. Burkina Faso
26. Burundi
27. Egypti
28. Eritrea
29. Etelä-Afrikka
30. Etelä-Sudan
31. Etiopia
32. Gabon
33. Gambia
34. Ghana
35. Guinea
36. Guinea-Bissau
37. Kamerun
38. Kap Verde
39. Kenia
40. Keski-Afrikan tasavalta
41. Komorit
42. Kongon demokraattinen tasavalta
43. Kongon tasavalta
44. Lesotho
45. Liberia
46. Libya
47. Länsi-Sahara
48. Madagaskar
49. Malawi
50. Mali
51. Marokko
52. Mauritania
53. Mauritius
54. Mosambik

55. Namibia
56. Niger
57. Nigeria
58. Norsunluurannikko
59. Päiväntasaajan Guinea
60. Ruanda
61. Sambia
62. Senegal
63. Seychellit
64. Sierra Leone
65. Somalia
66. Sudan
67. Swazimaa
68. São Tomé ja Príncipe
69. Tansania
70. Togo
71. Tšad
72. Tunisia
73. Uganda
74. Zimbabwe

Aasian luonnonmaantieteellinen nimistö



Numeroi karttaan.

vuoristot ja ylängöt

1. Himalaja
2. Kaukasus
3. Tiibetin ylänkö

meret, lahdet ja salmet

4. Bengalinlahti
5. Beringinmeri
6. Beringinsalmi
7. Etelä-Kiinan meri
8. Itä-Kiinan meri
9. Japaninmeri
10. Keltainenmeri
11. Ohotanmeri
12. Persianlahti
13. Punainenmeri

joet ja järvet

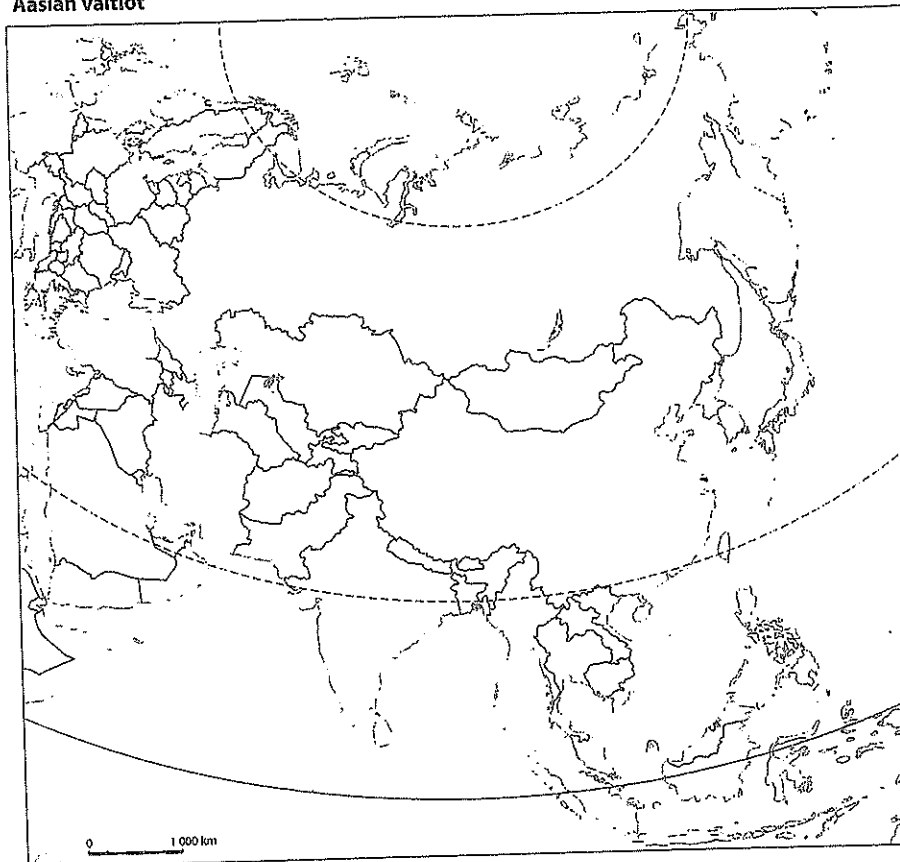
14. Amur
15. Araljärvi
16. Baikaljärvi
17. Eufrat
18. Ganges
19. Indus
20. Jangtse
21. Jenisei
22. Kaspianmeri
23. Keltainenjoki
24. Lena
25. Mekong
26. Ob
27. Tigris

niemimaat ja saaret

28. Arabian niemimaa
29. Borneo
30. Ceylon
31. Etu-Intia
32. Filippiinit
33. Hokkaido
34. Honshu
35. Itä-Intian saaristo
36. Jaava
37. Kamtšatkan niemimaa

38. Novaja Zemlja
39. Sahalin
40. Sulawesi
41. Sumatra
42. Taiwan
43. Taka-Intia
44. Uusi-Guinea

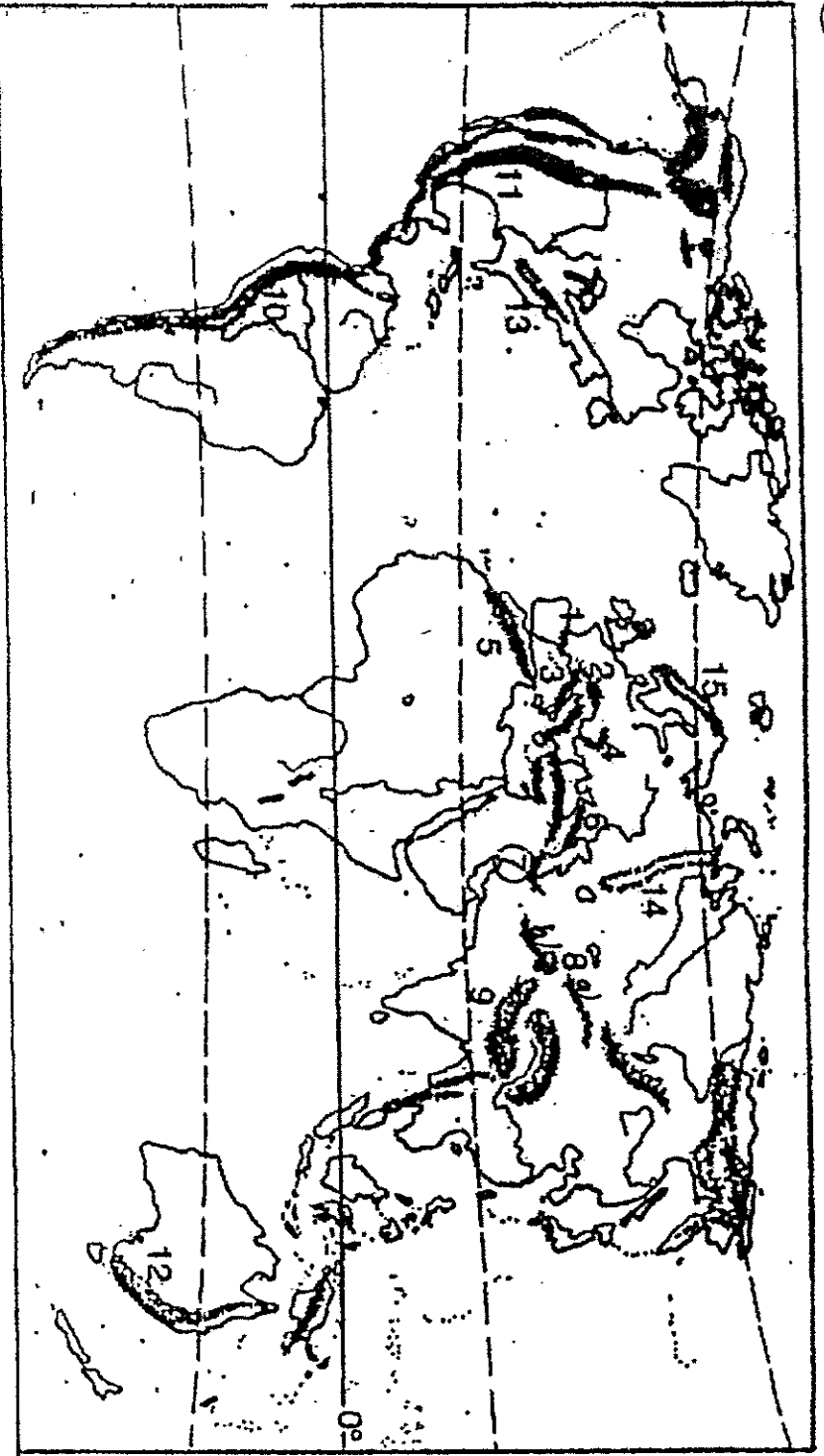
Aasian valtiot



Numerot karttaan.

- | | | | |
|----------------------|---------------|---------------------|-----------------|
| 1. Afganistan | 14. Irak | 27. Laos | 40. Sri Lanka |
| 2. Arabiemiirikunnat | 15. Iran | 28. Libanon | 41. Syyria |
| 3. Armenia | 16. Israel | 29. Malediivit | 42. Tadžikistan |
| 4. Azerbaidžan | 17. Itä-Timor | 30. Malesia | 43. Taiwan |
| 5. Bahrain | 18. Japani | 31. Mongolia | 44. Thaimaa |
| 6. Bangladesh | 19. Jemen | 32. Myanmar (Burma) | 45. Turkki |
| 7. Bhutan | 20. Jordania | 33. Nepal | 46. Turkmenist |
| 8. Brunei | 21. Kambodža | 34. Oman | 47. Uzbekistan |
| 9. Etelä-Korea | 22. Kazakstan | 35. Pakistan | 48. Venäjä |
| 10. Filippiinit | 23. Kiina | 36. Pohjois-Korea | 49. Vietnam |
| 11. Georgia | 24. Kirgisia | 37. Qatar | |
| 12. Indonesia | 25. Kuwait | 38. Saudi-Arabia | |
| 13. Intia | 26. Kypros | 39. Singapore | |

1. Nimeä karttaan numeroitui pöimivuoristot.



nuoria

1. _____
2. _____
3. _____
4. _____
5. _____

vanhoja

7. _____
8. _____
9. _____
10. _____
11. _____
12. _____
13. _____
14. _____
15. _____